

ธนาคารข้อสอบ
หลักสูตรการฝึกนักศึกษาวิชาทหาร ชั้นปีที่ ๕ หญิง

จงเลือกข้อที่ถูกที่สุดเพียง ๑ ข้อ

วิชา การอ่านแผนที่และการใช้เข็มทิศ

๑. แผนที่ที่ทางทหารใช้ในการปฏิบัติการทางยุทธวิธีมีมาตราส่วน คือ

ก. ๑ : ๒๕,๐๐๐

ข. ๑ : ๕๐,๐๐๐

ค. ๑ : ๑๐๐,๐๐๐

ง. ๑ : ๒๕๐,๐๐๐

๒. เลขอักษรที่แสดงไว้ในกรอบอ้างค่ากริด เช่น 47 P หมายถึง

ก. เลขอักษรประจำเขตกริด

ข. อักษรประจำจตุรัสแสนเมตร

ค. เลขระวาง

ง. เลขลำดับชุด

๓. การแบ่งเขตโซนในระบบยูทีเอ็ม จะแบ่งได้กี่เขตโซน

ก. ๕๐ โซน

ข. ๖๐ โซน

ง. ๗๐ โซน

ง. ๘๐ โซน

๔. อักษรประจำจตุรัสแสนเมตรของ พท.มาตราส่วน ๑ : ๕๐,๐๐๐ ตัวอย่าง เช่น

ก. PQ

ข. ๔๘ N

ค. ZRTSD

ง. L ๗๐๑๗

๕. การแบ่งกริดโซนระหว่างลองจิจูดตะวันตกกับตะวันออก คือ

ก. ๕๐ องศาตะวันตก – ๑๘๐ องศาตะวันออก

ข. ๑๘๐ องศาตะวันตก – ๕๐ องศาตะวันออก

ค. ๑๘๐ องศาตะวันตก – ๑๘๐ องศาตะวันออก

ง. ๑๘๐ องศาตะวันตก – ๓๖๐ องศาตะวันออก

๖. ความกว้างและความยาวของกริดโซนเป็นองศา คือ

ก. กว้าง ๓ องศา ยาว ๕ องศา

ข. กว้าง ๕ องศา ยาว ๑๕ องศา

ค. กว้าง ๖ องศา ยาว ๘ องศา

ง. กว้าง ๘ องศา ยาว ๑๐ องศา

๗. การแบ่งกริดโซนของละติจูดได้และเหนือจะแบ่งที่เส้นกี่องศา

ก. ๖๐ องศาใต้ – ๘๐ องศาเหนือ

ข. ๘๐ องศาเหนือ – ๖๐ องศาใต้

ค. ๘๐ องศาใต้ – ๘๔ องศาเหนือ

ง. ๘๔ องศาเหนือ – ๘๐ องศาใต้

๘. ทุกจตุรัสกริดบน พท.มาตราส่วน ๑ : ๕๐,๐๐๐ จะมีค่ากี่เมตร

ก. ๑๐,๐๐๐ เมตร

ข. ๑,๐๐๐ เมตร

ค. ๑๐๐ เมตร

ง. ๑๐ เมตร

๙. การอ่านพิกัดกริดทางทหารในระบบยูทีเอ็มอ่านได้ดังนี้

ก. อ่านไปทางซ้ายแล้วขึ้นบน

ข. อ่านไปทางซ้ายแล้วลงล่าง

ค. อ่านไปทางขวาแล้วขึ้นบน

ง. อ่านไปทางขวาแล้วลงล่าง

๑๐. การอ่านพิกัดให้ใกล้เคียงระยะ 1000 เมตร จะอ่านเป็นตัวเลขได้กี่ตัว

ก. ๔ ตัว

ข. ๖ ตัว

ค. ๘ ตัว

ง. ๑๐ ตัว

๑๑. การอ่านพิกัดเป็นตัวเลข 6 ตัว จะอ่านใกล้เคียงระยะกี่เมตร

ก. ๑๐ เมตร

ข. ๑๐๐ เมตร

ค. ๑,๐๐๐ เมตร

ง. ๑๐,๐๐๐ เมตร

๑๒. การอ่านพิกัดให้ใกล้เคียงระยะ 10 เมตร จะอ่านเป็นตัวเลขได้กี่ตัว

ก. ๑๐ ตัว

ข. ๘ ตัว

ค. ๖ ตัว

ง. ๔ ตัว

๑๓. เส้นที่ลากรอบโลกจากตะวันตกไปตะวันออก คือ เส้น

ก. เส้นละติจูดตะวันออก

ข. เส้นลองจิจูดเหนือ

ค. เส้นอีควาเตอร์

ง. เส้นเมอร์ริเดียน

๑๔. เส้นที่ลากจากขั้วโลกเหนือมาขั้วโลกใต้ คือเส้น

ก. เส้นลองจิจูดเหนือ

ข. เส้นลองจิจูดใต้

ค. เส้นเมอร์ริเดียน

ง. เส้นอีควาเตอร์

๑๕. เส้นเมอร์ริเดียนผ่านกลางลากมาตัดกับเส้นอีควาเตอร์โดยทำมุมฉากกันและกัน จุดตัดนี้เรียกว่า

ก. จุดกำหนดอักษรโซน

ข. จุดกำหนดเลขโซน

ค. จุดที่อยู่ของโซน

ง. จุดศูนย์กำเนิด

๑๖. เส้นชั้นความสูงที่มีสีน้ำตาลบนแผนที่ ถึงระดับความสูงจากระดับใด

ก. จากระดับน้ำทะเลสูงสุด

ข. จากระดับน้ำทะเลต่ำสุด

ค. จากระดับน้ำทะเลปานกลาง

ง. จากพื้นระดับเริ่มต้นของพื้นดิน

๑๗. เส้นชั้นความสูงมีกี่ประเภท

ก. ๔ ประเภท

ข. ๕ ประเภท

ค. ๖ ประเภท

ง. ๗ ประเภท

๑๘. เส้นชั้นความสูงแต่ละเส้นจะห่างกันประมาณกี่เมตร

ก. ๕ เมตร

ข. ๑๐ เมตร

ค. ๒๐ เมตร

ง. ๒๕ เมตร

๒๘. ถ้ามุมภาคทศวัตได้ ๒๓๕ องศา มุมตรงกันข้ามจะเป็นมุม

ก. ๑๕๕ องศา

ข. ๒๕๕ องศา

ค. ๓๕๕ องศา

ง. ๕๕ องศา

๒๙. การใช้เครื่องมือวัดมุม P-๖๗ เพื่อทำการช่วยในการวัดมุมภาคที่บริเวณส่วนโค้งจะบอกค่าของมุมอยู่ ๒ ชนิด คือ

ก. วงใน ๑๘๐ องศา - ๓๖๐ องศา

ข. วงใน ๐ องศา - ๙๐ องศา

วงนอก ๐ องศา - ๑๘๐ องศา

วงนอก ๙๐ องศา - ๑๘๐ องศา

ค. วงใน ๑๘๐ องศา - ๒๗๐ องศา

ง. วงใน ๐ องศา - ๑๘๐ องศา

วงนอก ๒๗๐ องศา - ๓๖๐ องศา

วงนอก ๑๘๐ องศา - ๓๖๐ องศา

๓๐. สีที่ใช้ในการเขียนเครื่องหมายทางทหารของฝ่ายข้าศึกใช้สีอะไร

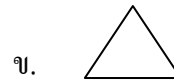
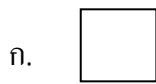
ก. สีดำ

ข. สีแดง

ค. สีน้ำเงิน

ง. สีเขียว

๓๑. เมื่อเขียนหน่วยทหารไม่ระบุเหล่าและขนาดหรืออื่นใด จะเขียนไว้ดังนี้ คือ



๓๒. การแสดงขนาดของหน่วย เช่น กองร้อย พัน สามารถเขียนได้จากหน่วยต่ำสุดจนถึงสูงสุด คือ

ก. ระดับหมู่ - กองร้อย

ข. ระดับ มว. - กองพล

ค. ระดับกองร้อย - กองทัพ

ง. ระดับ หมู่ - กองทัพ

๓๓. จงอธิบายความหมายของเครื่องหมายทางทหารดังต่อไปนี้คือ  ๒


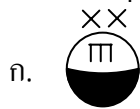
ก. กรมทหารสรรพาวุธที่ ๒

ข. กรมทหารม้าที่ ๒

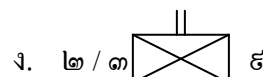
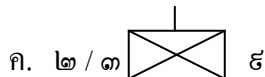
ค. กรมทหารปืนใหญ่ที่ ๒

ง. กรมทหารขนส่งที่ ๒

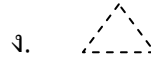

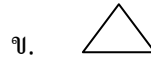
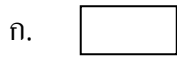
๓๔. ดาบล่ายสิ่งอุปกรณ์ต่าง ๆ เช่น ดาบล่าย สป.๓ ของ กองพล จะเขียนได้ดังนี้



๓๕. จัเขียนสัญลักษณ์ของหน่วยทหารดังต่อไปนี้ กองร้อยทหารราบที่ ๒ กองพันทหารราบที่ ๓ กรมทหารราบที่ ๕



๓๖. ที่ตั้งหน่วยทหารในอนาคคมักเขียนได้ดังนี้



๓๗. ขนาดของหน่วยทหารที่แสดงไว้ด้านบนของหน่วยทหารหากเป็นระดับ กองทัพจะเขียนได้ดังนี้

ก. x

ข. xx

ค. xxx

ง. xxxx

๓๘. แผ่นบริวารคือกระดาษที่มีลักษณะค่อนข้างใสใช้กับสิ่งใด

ก. ใช้กับเครื่องวัดมุม $p-67$

ข. ใช้กับเข็มทิศเลนเซติก

ค. ใช้กับล้อวัดระยะทาง

ง. ใช้กับแผนที่หรือภาพถ่ายทางอากาศ

๓๙. แผ่นบริวารนั้นจะใช้ในฐานะเป็นเอกสารเพื่อประกอบกับอะไร

ก. โตะทราย

ข. สนามยุทธวิธี

ค. คำสั่งต่าง ๆ

ง. หน่วยทหารราบ

๔๐. การเริ่มทำแผ่นบริวารมีอยู่ ๓ ชั้น คือ

ก. วางกระดาษถูกที่

ข. การกรูยรายละเอียดต่าง ๆ

ค. รายละเอียดขอบระวาง

ง. ถูกทุกข้อ

๔๑. การทำเครื่องหมายกากบาทแสดงพิกัดของแผนที่ไว้ใกล้ ๆ มุมทั้งสองข้างเพื่ออะไร

ก. เพื่อให้วางทาบบน ผท. ถูกต้อง

ข. เพื่อให้ทราบพิกัดกริด

ค. เพื่อให้รู้การกรูยจุด

ง. เพื่อให้ทราบรายละเอียดขอบระวาง

๔๒. การกรูยจุดลงบนแผ่นบริวาร หมายถึง

ก. การเขียนเครื่องหมายต่าง ๆ

ข. การกรูยที่ค่าต่าง ๆ

ค. สัญลักษณ์ทางทหาร

ง. ถูกทุกข้อ

๔๓. การเขียนรายละเอียดขอบระวางสำหรับแผ่นบริวารจะบอกถึง

ก. มาตราส่วน ผท. ชื่อระวาง หมายเลขระวาง

ข. ที่ตั้ง วัน เวลา เดือน ปี

ค. ยศ ชื่อ ตำแหน่ง ผู้จัดทำ

ง. ถูกทุกข้อ

๔๔. เครื่องหาพิกัดด้วยสัญญาณดาวเทียม SILVA เมื่อเปิดการใช้งานครั้งแรกของแต่ละวัน จะใช้เวลาประมาณ

ก. ๒-๓ นาที

ข. ๕-๑๐ นาที

ค. ๑๕-๒๐ นาที

ง. แสดงพิกัดทันที

๔๕. เครื่อง GPS (SILVA) สามารถใช้ในอุณหภูมิต่ำสุดกี่องศา

ก. -๐ องศา

ข. -๕ องศา

ค. -๑๕ องศา

ง. -๒๕ องศา

๔๖. เครื่อง GPS (SILVA) สามารถใช้ในอุณหภูมิสูงสุดกี่องศา

ก. + ๒๕ องศา

ข. + ๕๐ องศา

ค. + ๓๐ องศา

ง. + ๓๕ องศา

๔๗. เครื่อง GPS (SILVA) สามารถพยากรณ์อากาศได้ล่วงหน้ากี่ชั่วโมง

ก. ๕ ชม.

ข. ๑๐ ชม.

ค. ๑๒ ชม.

ง. ๑๕ ชม.

๔๘. หน้าจอ GPS (SILVA) ทำงานเวลาสามารถบอก เวลา วัน วันที่ เดือน ปี และ
ยังบอกอื่น ๆ ได้อีก เช่น

ก. เวลาตกปลาดี ไม่ดี

ข. พระอาทิตย์ขึ้น พระอาทิตย์ตก

ค. พระจันทร์ขึ้น พระจันทร์ตก

ง. น้ำทะเลขึ้น น้ำทะเลลง

วิชา แบบธรรมเนียมทหาร

๔๙. การจัดระเบียบราชการกระทรวงกลาโหม เริ่มใช้ใน พ.ศ.ใด

ก. พ.ศ. ๒๕๐๓

ข. พ.ศ. ๒๕๔๐

ค. พ.ศ. ๒๕๐๒

ง. พ.ศ. ๒๕๐๔

๕๐. กระทรวงกลาโหม มีอำนาจหน้าที่เกี่ยวกับเรื่องใด

ก. ป้องกันสถาบันพระมหากษัตริย์

ข. รักษาความมั่นคงทั้งภายในและภายนอก

ค. ป้องกันและรักษาความมั่นคงของอาณาจักร

ง. ถูกทุกข้อ

๕๑. กระทรวงกลาโหม มีใครเป็นผู้บังคับบัญชา

ก. ผู้ว่าราชการ

ข. รัฐมนตรีกระทรวงมหาดไทย

ค. รัฐมนตรีกระทรวงกลาโหม

ง. องคมนตรี

๕๒. กระทรวงกลาโหมแบ่งส่วนราชการอยู่เป็นกี่ส่วน

ก. ๔ ส่วน

ข. ๕ ส่วน

ค. ๖ ส่วน

ง. ๗ ส่วน

๕๓. ประธานสภากลาโหม คือ

ก. พระมหากษัตริย์

ข. รัฐมนตรีว่าการกระทรวงกลาโหม

ค. นายกรัฐมนตรี

ง. ไม่มีข้อใดถูก

๕๔. ธงชาติ เป็นเครื่องแสดงถึงความเป็นเอกราชของประเทศ เป็นสิ่งเชิดชูในความสง่าแก่ชาติและเป็น
สิ่งที่ต้องเคารพ ปัจจุบัน เราใช้ธงไตรรงค์เป็นธงชาติไทย ถ้ามว่า ธงไตรรงค์ เริ่มใช้ในรัชกาลใด

ก. รัชกาลที่ ๔

ข. รัชกาลที่ ๕

ค. รัชกาลที่ ๖

ง. รัชกาลที่ ๗

๕๕. ธงชัยเฉลิมพล ถือเป็นธงของหน่วยทหารใด

- ก. ทหารบก
- ข. ทหารเรือ
- ค. ทหารอากาศ
- ง. ตำรวจ

๕๖. ประเทศไทยได้ตราพระราชบัญญัติธง และวางระเบียบการชักธงชาติไว้ในปี พ.ศ.ใด

- ก. พ.ศ. ๒๕๐๖
- ข. พ.ศ. ๒๕๐๓
- ค. พ.ศ. ๒๕๒๐
- ง. พ.ศ. ๒๕๒๒

๕๗. ในทุก ๆ ปี ทหารจะมีสิ่งสำคัญ คือพิธีสาบานธงต่อหน้าธงชัยเฉลิมพล ในวันใดของทุกปี

- ก. วันที่ ๑๕ ม.ค. ของทุกปี
- ข. วันที่ ๑๕ ธ.ค. ของทุกปี
- ค. วันที่ ๒๕ ม.ค. ของทุกปี
- ง. วันที่ ๒๕ ธ.ค. ของทุกปี

๕๘. เมื่อมีการออกกฎหมาย ระเบียบหรือข้อบังคับใด ๆ รัฐมนตรีว่าการกระทรวงกลาโหมจะมอบอำนาจโดยทำเป็นหนังสือบรมให้บุคคลต่อไปนี้ ยกเว้นข้อใด

- ก. ผู้บัญชาการทหารบก
- ข. ปลัดกระทรวงกลาโหม
- ค. ผู้บัญชาการทหารสูงสุด
- ง. เลขาธิการรัฐมนตรี

๕๙. ข้อใดไม่ใช่สมาชิกในสภากลาโหม

- ก. เสนาธิการทหาร
- ข. นายกรัฐมนตรี
- ค. สมุราชองครักษ์
- ง. ผู้บัญชาการทหารสูงสุด

๖๐. การใช้คำสั่งในข้อใดที่กระทรวงกลาโหมจะต้องกำหนดโดยมีความเห็นของของคณะรัฐมนตรีควบคู่ไปด้วย

- ก.ปราบปรามกบฏ
- ข. การสงคราม
- ค. ปกป้องสถาบันกษัตริย์
- ง.ปราบปรามการจลาจล

๖๑. ในกรณีที่ไม่มีผู้ดำรงตำแหน่ง รมต.กลาโหมหรือมีแต่ไม่อาจปฏิบัติราชการได้ สามารถให้ใครเป็นผู้ว่าราชการแทนได้

- ก. รัฐมนตรีช่วยว่าการกระทรวงกลาโหม
- ข. เลขาธิการรัฐมนตรี
- ค. เสนาธิการทหารบก
- ง. ผบ.ทบ.

๖๒. องค์กรประชุมสภากลาโหมแต่ครั้งจะต้องมีสมาชิกมาประชุมไม่น้อยกว่าเท่าใด

- ก. ครั้งหนึ่ง
- ข. ๒ ใน ๓
- ค. ๑ ใน ๔
- ง. ถูกข้อ ก. และ ข.

๖๓. การแบ่งส่วนราชการสำนักเลขาธิการรัฐมนตรีแบ่งเป็นกี่ส่วน

- ก. ๒ ส่วน
- ข. ๓ ส่วน
- ค. ๔ ส่วน
- ง. ๕ ส่วน

๖๔. ในส่วนของการสารบรรณการเงินการปลาทิการ ของสำนักงานเลขานุการรัฐมนตรีมีใครเป็นผู้บังคับบัญชารับผิดชอบ

- ก. หัวหน้าแผนกการเมือง
- ข. หัวหน้าแผนกการเงิน
- ค. หัวหน้าแผนกตรวจสอบเรื่องราวและความเห็น
- ง. หัวหน้าแผนกสารบรรณ

๖๕. ข้อใดไม่อยู่ในการแบ่งส่วนราชการของสำนักงานปลัดกระทรวง

- ก. กรมเสมียนตรา
- ข. กรมแบ่งเงินกลาโหม
- ค. กรมพระธรรมนูญ
- ง. กรมยุทธศึกษา

๖๖. ส่วนใดมีหน้าที่เกี่ยวกับกรงงบประมาณ การประชาสัมพันธ์ การวิจัยและพัฒนาการทางทหาร

- ก. สำนักนโยบายและแผนกลาโหม
- ข. สำนักปลัดกระทรวงกลาโหม
- ค. กรมเสมียนตรา
- ง. สำนักตรวจบัญชีกลาโหม

๖๗. ส่วนใดมีหน้าที่เกี่ยวกับการสารบรรณ การกำลังพลและการสวัสดิ

- ก. กรมการเงินกลาโหม
- ข. ศูนย์การอุตสาหกรรมป้องกันประเทศ
- ค. กรมพระธรรมนูญ
- ง. กรมเสมียนตรา

๖๘. ส่วนใดมีหน้าที่เกี่ยวกับการเงินการบัญชี เบี้ยหวัด บำเหน็จบำนาญ

- ก. กรมพระธรรมนูญ
- ข. กรมเสมียนตรา
- ค. กรมการเงินกลาโหม
- ง. สำนักนโยบายและแผนกลาโหม

๖๙. ส่วนใดมีหน้าที่เกี่ยวกับศาลทหาร อัยการทหาร

- ก. สำนักปลัดกระทรวงกลาโหม
- ข. กรมพระธรรมนูญ
- ค. สำนักนโยบายและแผน
- ง. กรมเสมียนตรา

๗๐. ส่วนใดมีหน้าที่พิจารณาเสนอความเห็น อำนวยการ ประสานงานและดำเนินการ เกี่ยวกับนโยบายยุทธศาสตร์

- ก. สำนักงานนโยบายและแผนกลาโหม
- ข. กรมพระธรรมนูญ
- ค. สำนักงานปลัดกระทรวงกลาโหม
- ง. กรมเสมียนตรา

๗๑. ส่วนใดมีหน้าที่ดำเนินการเกี่ยวกับการตรวจสอบภายในให้แก่ส่วนราชการในสำนักงานปลัดกระทรวง

- ก. สำนักตรวจบัญชีกลาโหม
- ข. สำนักวางแผนและนโยบาย
- ค. สำนักงานอำนวยการ
- ง. สำนักงานการยุทธวิธี

๗๒. ชงรูปช้างเผือกสีขาวอยู่ในวงจักรขาวกลางธงแดงใช้เป็นธงอะไร

- ก. ธงชาติ
- ข. ธงประจำเรือกำปั่นหลวง
- ค. ธงประจำหน่วย
- ง. ธงไชยเฉลิมพล

๗๓. ข้อใดกล่าวเรื่องธงชาติถูกต้อง

- ก. ธงชาติเป็นเครื่องหมายแห่งความเป็นอิสระภาพของชาติ
- ข. ธงชาติเป็นสิ่งเตือนใจให้ระลึกถึงคุณความดีของวีรชน
- ค. ธงเป็นศูนย์รวมจิตใจคนในชาติ
- ง. ถูกทุกข้อ

๗๔. ธงชาติรูปช้างเผือกอยู่กลางธงแดง เริ่มใช้ตั้งแต่

- ก. ร.๒
- ข. ร.๓
- ค. ร.๔
- ง. ร.๕

๗๕. สิ่งที่ไม่ควรปฏิบัติต่อธงชาติ

- ก. ประดับธงชาติสี่ศดใส
- ข. ยืนเคารพธงชาติเวลาขึ้น – ลง
- ค. ประดับธงชาติในงานพิธีต่างๆ
- ง. ชักธงชาติต่างประเทศไม่มีธงชาติไทยเลย

๗๖. ธงหมายพระอิสริยยศสำหรับพระมหากษัตริย์ เรียกว่า

- ก. ธงมหาราชใหญ่
- ข. ธงบรมราชวงศ์ใหญ่
- ค. ธงมหาราชน้อย
- ง. ข้อ ก. และ ข้อ ค. ถูก

๗๗. กลางผืนธงชัยเฉลิมพลของทหารเรือเป็นรูป

- ก. จักรแปดแฉก
- ข. ช้างเผือกทรงเครื่อง
- ค. ดาวกลมสีฟ้า
- ง. ตราหน้าหมวก

๗๘. ธงสีแดงสี่เหลี่ยมผืนผ้ารูปดาวสีเหลือง ๒ ดวง อยู่กลางผืนธงคืออะไร

- ก. ธงแสดงตำแหน่งผู้บัญชาการกองพล
- ข. ธงแสดงยศพลอากาศตรี
- ค. ธงแสดงยศพลตรี
- ง. ธงแสดงยศพลโท

๗๙. กลางผืนธงแสดงตำแหน่ง ผบ.ทบ.เป็นรูปอะไร

- ก. รูปช้างเผือก
- ข. รูปจักร ๘ แฉก
- ค. รูปเครื่องหมายกองทัพบก
- ง. รูปปืนนก

๘๐. ธงที่มีรูปราชสีห์กับคชสีห์ยืนในท่าแผ่นหันหน้าเข้าหากันเป็นธงแสดงตำแหน่งของใคร

- ก. รัฐมนตรีว่าการกระทรวงกลาโหม
- ข. นายกรัฐมนตรี
- ค. ผู้บัญชาการทหารบก
- ง. ผู้บัญชาการทหารอากาศ

วิชา กำลังพลสำรอง

๘๑. ระบบย่อยที่รองรับระบบใหม่ของประเทศไทย (เริ่มในปี ๒๕๔๓) ยังคงใช้ ๕ ระบบเดิม อยากทราบว่าระบบการผลิตกำลังพลสำรอง ในการผลิตกำลังพลสำรองประเภทผู้บังคับบัญชาใคร ?เป็นผู้ผลิต

- ก. กองทัพบก
- ข. กองทัพอากาศ
- ค. หน่วยบัญชาการกำลังสำรอง
- ง. พ.ร.บ.รับราชการทหาร

๕๑. ระบบการเรียกกำลังพลสำรอง ประเภทนายทหารประทวนและพลทหาร ใครเป็นผู้ดำเนินการเรียก โดยอาศัยอำนาจตาม พ.ร.บ. รับราชการทหาร ?

- ก. เจ้าหน้าที่ฝ่ายมหาดไทย
ข. ผบ. จทบ.
ค. ผบ.มทบ.
ง. ข้อ ข และข้อ ค ถูก

๕๒. ระบบการเรียกกำลังพลสำรองของประเทศไทย ใช้อย่างไร ?

- ก. ใช้คำสั่งเรียก
ข. ใช้ประกาศเรียก
ค. ใช้หมายเรียก
ง. ถูกทั้งข้อ ก และข้อ ค

๕๓. ระบบการเรียกกำลังพลสำรองของประเทศสหรัฐอเมริกา ใช้อย่างไร ?

- ก. ใช้แผนกสถิติต่าง ๆ เป็นผู้เรียก
ข. ใช้หน่วยเป็นผู้เรียก
ค. กองทัพเป็นผู้เรียก
ง. ไม่มีข้อใดถูก

๕๔. ระบบการเรียกกำลังพลสำรองของประเทศอิสราเอล ใช้อย่างไร ?

- ก. ใช้คำสั่งเรียก (ไม่เปิดเผย)
ข. ใช้ประกาศเรียก (เปิดเผย)
ค. ใช้หมายเรียก
ง. ถูกทั้งข้อ ก และข้อ ข

๕๕. ระบบการเรียกกำลังพลสำรองของสิงคโปร์ ใช้อย่างไร ?

- ก. ใช้คำสั่งเรียก (ไม่เปิดเผย)
ข. ใช้ประกาศเรียก (เปิดเผย)
ค. ใช้หมายเรียก
ง. ถูกทั้งข้อ ก และข้อ ข

๕๖. ระบบการฝึกศึกษากำลังพลสำรองเพื่อเลื่อนยศ และเลื่อนฐานะ กำลังพลสำรองผู้มีคุณสมบัติและได้รับอนุมัติให้เข้ารับการฝึกแล้ว จะไปทำการฝึกที่ใด ?

- ก. ศูนย์ฝึก หรือหน่วยฝึก
ข. รร. กสร.ศสร.
ค. รร.รค.ศสร.
ง. ข้อ ข และข้อ ค ถูก

๕๗. ระบบการฝึกศึกษากำลังพลสำรองของประเทศไทยแบ่งการฝึกเป็นแต่ละประเภท อยากทราบว่า กำลังพลสำรองขั้นต้น ฝึกอย่างไร ?

- ก. พัฒนาสัมพันธ์ และทดสอบความพร้อมรบ ไม่เกิน ๓ วัน
ข. ฝึก ชกท. ๘๐ ชั่วโมง
ค. ฝึกเป็นหน่วยทางยุทธวิธี (ภาคกองร้อย และภาคกองพัน) ๒ ครั้ง ครั้งละไม่เกิน ๑๐ วัน
ง. ถูกทั้ง ข้อ ข และข้อ ค

๕๘. ระบบการฝึกศึกษากำลังพลสำรองของประเทศไทยแบ่งการฝึกเป็นแต่ละประเภท อยากทราบว่า กำลังพลสำรองพร้อมรบ ฝึกอย่างไร ?

- ก. พัฒนาสัมพันธ์ และทดสอบความพร้อมรบ ไม่เกิน ๓ วัน
ข. ฝึก ชกท. ๘๐ ชั่วโมง
ค. ฝึกเป็นหน่วยทางยุทธวิธี (ภาคกองร้อย และภาคกองพัน) ๒ ครั้ง ครั้งละไม่เกิน ๑๐ วัน
ง. ข้อ ข และข้อ ค ถูก

๙๙. ระบบการฝึกศึกษากำลังพลสำรองของประเทศไทยแบ่งการฝึกเป็นแต่ละประเภท อยากรทราบว่า กำลังพลสำรองเตรียมพร้อม ฝึกอย่างไร ?

- ก. พัฒนาสัมพันธ์ และทดสอบความพร้อมรบ ไม่เกิน ๓ วัน
- ข. ฝึก ชกท. ๘๐ ชั่วโมง
- ค. ฝึกเป็นหน่วยทางยุทธวิธี (ภาคกองร้อย และภาคกองพัน) ๒ ครั้ง ครั้งละไม่เกิน ๑๐ วัน
- ง. ข้อ ข และข้อ ค ถูก

๑๐๐. ระบบการฝึกศึกษากำลังพลสำรองของประเทศไทยแบ่งการฝึกเป็นแต่ละประเภท อยากรทราบว่า กำลังพลสำรองทั่วไป ๓ รุ่นปี ฝึกอย่างไร ?

- ก. พัฒนาสัมพันธ์ และทดสอบความพร้อมรบ ไม่เกิน ๓ วัน
- ข. ฝึก ชกท. ๘๐ ชั่วโมง
- ค. ฝึกเป็นหน่วยทางยุทธวิธี (ภาคกองร้อย และภาคกองพัน) ๒ ครั้ง ครั้งละไม่เกิน ๑๐ วัน
- ง. ข้อ ข และข้อ ค ถูก

๑๐๑. ระบบการฝึกศึกษากำลังพลสำรองของประเทศสหรัฐอเมริกา กำลังพลสำรองจะทำการฝึกอย่างไร

- ก. ฝึกปีละไม่น้อยกว่า ๒๐ วัน
- ข. ฝึกปีละ ๓๘ วัน
- ค. ฝึกปีละไม่เกิน ๔๒ วัน
- ง. ฝึก ชกท.ปีละ ๘๐ ชั่วโมง

๑๐๒. ระบบการฝึกศึกษากำลังพลสำรองของประเทศอิสราเอล กำลังพลสำรองจะทำการฝึกอย่างไร ?

- ก. ฝึกปีละไม่น้อยกว่า ๒๐ วัน
- ข. ฝึกปีละ ๓๘ วัน
- ค. ฝึกปีละไม่เกิน ๔๒ วัน
- ง. ฝึก ชกท.ปีละ ๘๐ ชั่วโมง

๑๐๓. ระบบการฝึกศึกษากำลังพลสำรองของประเทศสิงคโปร์ กำลังพลสำรองจะทำการฝึกอย่างไร ?

- ก. ฝึกปีละไม่น้อยกว่า ๒๐ วัน
- ข. ฝึกปีละ ๓๘ วัน
- ค. ฝึกปีละไม่เกิน ๔๒ วัน
- ง. ฝึก ชกท.ปีละ ๘๐ ชั่วโมง

๑๐๔. ระบบการบรรจุและการใช้กำลังพลสำรองของประเทศไทย มีหลักการใช้อย่างไร ?

- ก. ใช้เสริมกำลังกองประจำการ
- ข. ใช้ทดแทนกำลัง
- ค. ใช้ขยายกำลังและจัดตั้งหน่วยใหม่
- ง. ถูกทุกข้อ

๑๐๕. ระบบการบรรจุและการใช้กำลังพลสำรองของประเทศสหรัฐอเมริกาดำเนินการอย่างไร ?

- ก. บรรจุกำลังประจำการ ๒๐ %
- ข. บรรจุกองหนุน ๒๕ %
- ค. บรรจุกำลังประจำการ : กำลังพลสำรอง เป็น ๕๑ : ๔๙ %
- ง. ข้อ ก และ ข้อ ข ถูก

๑๐๖. ระบบการบรรจุและการใช้กำลังพลสำรองของประเทศอิสราเอลดำเนินการอย่างไร ?
- ก. บรรจุกำลังประจำการ ๓๐ %
 - ข. บรรจุกำลังพลสำรอง ๗๐ %
 - ค. บรรจุกำลังพลสำรอง : กำลังประจำการ ๗๐ : ๓๐ %
 - ง. ถูกทุกข้อ
๑๐๗. ระบบการบรรจุและการใช้กำลังพลสำรองของประเทศสิงคโปร์ดำเนินการอย่างไร ?
- ก. บรรจุกำลังประจำการ ๑ กองพล กำลังพลสำรอง ๒ กองพล
 - ข. บรรจุกองหนุน ๕๐ %
 - ค. บรรจุกำลังประจำการ ๒ กองพล กำลังพลสำรอง ๑ กองพล
 - ง. ข้อ ก และ ข้อ ข ถูก
๑๐๘. นายทหารประทวนกองหนุนของประเทศสหรัฐอเมริกา ได้มาจากไหน ?
- ก. กฎหมายรับราชการทหาร
 - ข. พลทหารที่เติบโตตามแนวทางรับราชการ
 - ค. จากนักศึกษา
 - ง. ไม่มีข้อใดถูก
๑๐๙. นายทหารสัญญาบัตรของประเทศอิสราเอล ได้มาจากไหน ?
- ก. กฎหมายรับราชการทหาร
 - ข. นายทหารประทวนที่เติบโตตามแนวทางรับราชการ
 - ค. ได้จากนายทหารที่ผ่านการทดสอบไอคิว
 - ง. ไม่มีข้อใดถูก
๑๑๐. พลทหารกองหนุนของประเทศสิงคโปร์ได้มาจากไหน ?
- ก. จากการรับสมัคร
 - ข. พลทหารที่รับราชการครบแล้วปลดเป็นกองหนุน
 - ค. จากนักศึกษา
 - ง. ไม่มีข้อใดถูก
๑๑๑. กฎกระทรวง(พ.ศ.๒๕๕๕) ข้อ ๔ พลทหารและนายทหารประทวนนอกประจำการแต่งเครื่องแบบทหารได้ในโอกาสใด ?
- ก. วันปฏิบัติราชการ
 - ข. ถูกเรียกระดมพล
 - ค. ถูกเรียกเข้ารับราชการทหาร
 - ง. ถูกทั้งข้อ ข และข้อ ค
๑๑๒. กฎกระทรวง(พ.ศ.๒๕๕๕) ข้อ ๖ นายทหารสัญญาบัตรนอกประจำการแต่งเครื่องแบบทหารได้ในโอกาสใด ?
- ก. ทุกโอกาส
 - ข. ถูกเรียกระดมพล
 - ค. ถูกเรียกเข้ารับราชการทหาร
 - ง. ข้อ ข และข้อ ค ถูก

วิชา การทําอาหาร

๑๑๓. วิธีการสอนในวิชาอาหาร เช่น ในวิชาการฝึกบุคคลทําเมื่อเปล่าใช้การสอนในลักษณะใด

- ก. เชิงบรรยาย
- ข. เชิงประชุม
- ค. เชิงแสดง
- ง. เชิงวิเคราะห์

๑๑๔. แบบหรือวิธีสอนที่ใช้เป็นหลักในวิชาอาหารนั้น มีด้วยกันทั้งหมดกี่แบบ

- ก. ๒ แบบ
- ข. ๓ แบบ
- ค. ๔ แบบ
- ง. ๕ แบบ

๑๑๕. วิธีการสอนในวิชาอาหาร ในวิชา การทําอาหาร – ผู้แนะ ใช้การสอนในลักษณะใดบ้าง

- ก. เชิงวิเคราะห์ , เชิงประชุม
- ข. เชิงแสดง , เชิงประชุม
- ค. เชิงวิเคราะห์ , เชิงบรรยาย
- ง. เชิงบรรยาย , เชิงแสดง

๑๑๖. ข้อใดจัดเป็นข้อเสียของเชิงบรรยาย

- ก. ครูรับบทหนักในการสอนแต่เพียงผู้เดียว
- ข. การรับรู้ของนักเรียนได้ไม่ทั่วถึงเท่าที่ควร
- ค. เวลาจำกัด
- ง. เป็นการไม่ส่งเสริมการใช้ความคิดของนักเรียน

๑๑๗. การสอนเชิงบรรยาย ไม่สมควรจะนำมาสอนนักเรียนทหารในระดับใด

- ก. นักศึกษาวิชาทหาร
- ข. พลทหาร
- ค. นักเรียนนายสิบ
- ง. นักเรียนนายร้อย

๑๑๘. ข้อใดไม่ใช่ประโยชน์ของการสอนเชิงประชุม

- ก. สามารถแก้ไขความเข้าใจผิดของนักเรียนได้ทันที
- ข. นักเรียนจะใช้ความคิดและสนใจต่อบทเรียนตลอดเวลา
- ค. ครูจะทราบความรู้และความเข้าใจของนักเรียน
- ง. ครูรับภาระในการสอนน้อยลงกว่าการสอนในลักษณะอื่น ๆ

๑๑๙. วิธีการสอนเชิงประชุม เหมาะที่จะใช้กับนักเรียนระดับใดบ้าง

- ก. ทุกระดับ
- ข. ระดับพลทหาร
- ค. ระดับนักเรียนนายสิบ
- ง. ระดับนักเรียนนักเรียน

๑๒๐. การสอนวิธีใดเป็นโอกาสนักเรียนมีส่วนร่วมในการแสดงความคิดเห็น โดยการถามคำถามแก่นักเรียน

- ก. เชิงวิเคราะห์
- ข. เชิงประชุม
- ค. เชิงแสดง
- ง. เชิงบรรยาย

๑๒๑. จุดมุ่งหมายในการสอนทหาร มุ่งเน้นไปในจุดใดเป็นหลัก
- ก. ชีดความสามารถ
ข. กำลััง
ค. ความสามารถในด้านต่าง ๆ
ง. การปฏิบัติ
๑๒๒. การสอนเชิงแสดง สามารถแบ่งออกเป็นกี่ประเภท
- ก. ๕ ประเภท
ข. ๖ ประเภท
ค. ๘ ประเภท
ง. ๑๐ ประเภท
๑๒๓. การปฏิบัติทางยุทธวิธี การที่จะแสดงให้นักเรียนเห็นได้ อาจจำเป็นต้องพึงยุทธโธปกรณ์ชนิดใด เป็นสำคัญ
- ก. โธัะทราย
ข. เข็มทิศ
ค. โพรเจคเตอร์
ง. คอมพิวเตอร์
๑๒๔. วิธีกรใดไม่ใช่วิธีการสอนเชิงแสดง
- ก. แสดงยุทธโธปกรณ์
ข. แสดงบนเวที
ค. การอธิบาย
ง. การแสดงด้วยสื่อ
๑๒๕. ผู้นำทางการทหารที่มักจะประสบความสำเร็จในหน้าที่การงานมักเกิดจากสิ่งใดเป็นหลัคสำคัญ
- ก. สถาบันที่จบมา
ข. เพื่อนพ้อง
ค. ความรู้และการศึกษา
ง. เทคนิคทางการพูด
๑๒๖. สิ่งที่สามารถข้มความประห่ม่าในการสอนได้เป็นอย่างดี สิ่งนั้นคืออะไร
- ก. รอยยิ้ม
ข. ความเป็นระเบียบ
ค. วินัย
ง. การวางแผนการสอน
๑๒๗. การเตรียมตัวและวางแผนในการสอน จะต้องมีสิ่งใดอีกที่จะใช้เมื่อความข่อความประห่ม่าในการสอนแต่ละครั้ง
- ก. ความพร้อมในหลัคสูตร
ข. การสร้างคามเชื่อมั่น
ค. แผนการสอน
ง. อารมณ์ขัน
๑๒๘. เมื่อเกิดอาการประห่ม่าขึ้น บุคคลมักจะแสดงอาการใดบ้าง
- ก. พูดเร็ว
ข. หัวเราะ
ค. พูดไม่ออก
ง. ขาสั่น
๑๒๙. ข้อใดบอกถึงลักษณะการวางท่าทางอย่างเหมาะสมในการสอนมากที่สุด
- ก. อย่ายืน ณ จุดเดียวตลอด , อย่าเดินไปเดินมาตลอด
ข. ยืนกุมมือได้เข้มขัด
ค. ยืนลั้วกระเป่า
ง. ยืนถือไม้ชี้ตลอดเวลา

๑๓๐. การยื่นในลักษณะใดที่มีลักษณะยื่นพียงผนังและยื่นในลักษณะอาคารที่ไม่มีริ้วแรง
- ก. ยื่นกุ่มได้เข้มชัด
ข. ยื่นลี้วงกระเป่า
ค. ยื่นโดยใช้ไม้ซี่
ง. ยื่นลักษณะคนสิ้นใจ
๑๓๑. มุลเหตุในข้อใดที่จะส่งผลให้ครูเกิดความกระตือรือร้น
- ก. มีความรู้เรื่องและประโยชน์ของเรื่องที่จะสอน
ข. พุดจาจะฉานและมีสื่ออุปกรณ์ที่ดี
ค. ใช้สื่อทันสมัยที่สุด
ง. การใช้ภาษาทันสมัยที่สุด
๑๓๒. ข้อใดเป็นพื้นฐานของการใช้เสียงที่เหมาะสมอันดับแรก
- ก. ระดับเสียง
ข. จังหวะการพุด
ค. เลือกใช้คำพุด
ง. คุณภาพของเสียง
๑๓๓. ข้อใดไม่ใช่หลักในการพัฒนานิสัยการพุดให้มีประสิทธิภาพ
- ก. ดิชม
ข. วิเคราะห์การพุดของตนเอง
ค. ศึกษาจุดด้อยของตนเอง
ง. กล่าวแก้ตัว
๑๓๔. ขั้นตอนแรกในการเตรียมการสอน คืออะไร
- ก. พิจารณาถึงความมุ่งหมายของบทเรียน
ข. ตั้งเกตพฤติกรรมของบทเรียน
ค. กำหนดแนวทางการศึกษาในห้องเรียน
ง. ตรวจสอบภูมิปัญญาและระดับความรู้ของผู้เรียน
๑๓๕. เมื่อทำการกำหนดจุดมุ่งหมายในเนื้อหาที่สอนแล้ว จะต้องพิจารณาถึงสิ่งใดต่อไป
- ก. ทักษะและความรู้ในการที่จะให้ผู้รับการศึกษาปฏิบัติ
ข. หาข้อมูลปลีกย่อยมาประกอบ
ค. หาภาพและสื่อต่าง ๆ มาประกอบหลักสูตร
ง. แนะนำประสบการณ์หรือแนวทางในการปฏิบัติ
๑๓๖. ขั้นตอนแรกในการพิจารณาวิธีดำเนินการสอน คืออะไร
- ก. วิธีและเทคนิค
ข. แบ่งขั้นตอน
ค. จัดให้นักเรียนมีส่วนร่วม
ง. จัดลำดับเรื่องที่จะสอน
๑๓๗. แผนบทเรียนมีประโยชน์ไว้เพื่ออะไร
- ก. เป็นหลักฐานในการทำงานของผู้สอน
ข. เป็นหัวข้อสำหรับการสอน
ค. ใช้เป็นแนวทางในการสอน
ง. ไว้เสนอต่อผู้บังคับบัญชา

๑๓๘. ชนิดของแผนบทเรียน แบ่งออกเป็น ๓ ประเภท ประกอบด้วยอะไรบ้าง

- ก. ชนิด , บทความ , วลี
ข. ชนิดประโยค , วลี , บทความ
ค. ย่อหน้า , คำ , ชนิดประโยค
ง. บทความ , วลี , องค์ความรู้

๑๓๙. ขั้นตอนใดเป็นขั้นตอนเพื่อทราบถึงความก้าวหน้าในการสอนของผู้สอน

- ก. การประเมินผล
ข. การเตรียมแผนบทเรียน
ค. การค้นคว้าหาความรู้
ง. การจัดความมุ่งหมาย

๑๔๐. “ กระบวนการที่ใช้ทุกคำถาม เพื่อรู้ให้ผู้ถูกทดสอบแสดงปฏิกิริยาตอบโต้ หลังจากจบการสอน บทเรียนใดบทเรียนหนึ่ง ผลของการทดสอบมักจะแสดงเป็นตัวเลขมากน้อยแทนคุณลักษณะของผู้ถูกทดสอบ” ตามบทความนี้เป็นคำจำกัดความของการประเมินผลในลักษณะใด

- ก. การวัดผล
ข. การประเมินผล
ค. การทดสอบ
ง. แบบทดสอบ

๑๔๑. “ กระบวนการวัดคุณลักษณะของสิ่งใดสิ่งหนึ่ง ของบุคคลโดยไม่จำกัดวิธี เช่น สังเกต , สัมภาษณ์” เป็นคำจำกัดความของการประเมินผลในลักษณะใด

- ก. การตอบแบบสอบถาม
ข. การทำงานวิจัย
ค. การวัดผล
ง. การทดสอบ

๑๔๒. “ กระบวนการพิจารณาตัดสินใจในข้อมูลที่ได้จากการวัดว่าเป็นไปตามความประสงค์หรือ ถูกต้องมากน้อยเพียงไร” ตามบทความนี้คือคำจำกัดความของการประเมินผลในลักษณะใด

- ก. การวิจัย
ข. การวัดผล
ค. การประเมินผล
ง. การทดสอบ

๑๔๓. วัตถุประสงค์ ความมุ่งหมายของการทดสอบมีด้วยกัน ๔ ประการ ข้อใดไม่เข้าพวก

- ก. ปรับปรุงการสอน
ข. ใ้เข้าใจต่อการเรียน
ค. กำหนดระดับการเรียน
ง. กำหนดระดับการสอน

๑๔๔. แบบในการประเมินผล แบ่งได้ ๓ ประเภทใหญ่ๆ ข้อใดไม่เข้าพวก

- ก. สอบข้อเขียน
ข. สอบปฏิบัติ
ค. สอบวัดระดับผู้สอน
ง. ประเมินค่าด้วยการสังเกต

๑๔๕. การทดสอบที่นำมาใช้วัดความรู้ทักษะและความสามารถของนักเรียนได้เป็นอย่างดี เป็นสิ่งที่มีคุณค่ายิ่งในระดับนักเรียน อยากทราบว่า เป็นลักษณะการประเมินผลแบบใด

- ก. สอบปากเปล่า
ข. สอบข้อเขียน
ค. สอบแบบสังเกตการณ์
ง. สอบปฏิบัติ

๑๔๖. ข้อใดไม่ใช่ลักษณะของข้อสอบที่ดี

- ก. มีความเที่ยงตรงถูกต้อง
ข. มีความเชื่อถือได้
ค. ออกตามี่สอน
ง. สามารถทำได้ทุกคน

๑๔๗. ปัจจัยที่เป็นผลกระทบต่อประสิทธิภาพในการรบ

- ก. ชีตความสามารถของทหาร
- ข. ชีตความสามารถของผู้นำ
- ค. ข่าวลือ
- ง. ภูมิอากาศ

๑๔๘. ข้อใดที่มีหน้าที่รับผิดชอบคอยสังเกตความผันแปรของสถานการณ์ต่าง ๆ ที่หน่วยทหารอาจมีความรู้สึกกว่าวิกฤติ

- ก. ผู้บังคับหน่วยทหารขนาดเล็ก
- ข. ผู้บังคับกองพัน
- ค. ผู้บังคับหมู่
- ง. ทหารทุกคน

๑๔๙. สิ่งใดเป็นสิ่งที่ เป็นเครื่องมือทำลายความเชื่อมั่นและก่อให้เกิดความไม่แน่ใจในการรบนั้น ๆ

- ก. ความกลัว
- ข. ความตื่นตระหนกตกใจ
- ค. ข่าวลือ
- ง. ความมีน้ำใจ

๑๕๐. ความแตกต่างของความเชื่อมั่น แบ่งออกเป็น ๒ ลักษณะใหญ่ ๆ อะไรบ้าง

- ก. ความเชื่อมั่นจริงจัง , ความเชื่อมั่นไม่แน่ใจ
- ข. ความเชื่อมั่นแน่นอน และไม่แน่นอน
- ค. ความเชื่อมั่นต่อจิตใจ , ความเชื่อมั่นต่อหน่วยงาน
- ง. ความเชื่อมั่นในตนเอง และต่อคนรอบข้าง

๑๕๑. ข้อใดไม่ใช่มาตรการในการใช้ควบคุมข่าวลือ

- ก. จัดให้มีโครงการแถลงข่าวได้อย่างมีประสิทธิภาพ
- ข. จัดให้มีการกระจายข่าวสารและการปฏิบัติการอย่างสมบูรณ์ที่สุด
- ค. เสริมสร้างความเชื่อมั่นของตนเองในหน่วยทหาร
- ง. แจ้งเรื่องให้ทหารราบเกี่ยวกับรายละเอียดข่าวลือต่าง ๆ

๑๕๒. เมื่อทหารอยู่ในห้วงอารมณ์แห่งความกลัว จะส่งผลกระทบต่อใดมากที่สุด

- ก. ระดับความคิดลดน้อยลง
- ข. ขาดความกล้าหาญ
- ค. ระดับความฉลาดลดลง
- ง. ระดับการใช้เหตุผลลดลง

๑๕๓. วิธีการใดที่สามารถใช้ควบคุมความกลัว ได้อย่างมีประสิทธิภาพมากที่สุด

- ก. ซ่อนความกลัวเอาไว้
- ข. แสดงออกเต็มที่
- ค. หลบหนี
- ง. หัวเราะร่วน

๑๕๔. “ การขาดแคลนอาวุธและกระสุน , การมีอาวุธยิงสนับสนุนไม่เพียงพอ , หมอกควัน , ป่า , ความมืด ” ถือเป็นสภาวะการณ์ด้านใด

- ก. สภาวะการณ์ด้านวัตถุ
- ข. สภาวะจิตใจ
- ค. สภาพขวัญกำลังใจ
- ง. สภาพทางยุทธวิธี

๑๕๕. “ สิ่งที่เป็นอันตรายหรือคาดว่าเป็นอันตราย , ความไม่ปลอดภัย , ความไม่แน่ใจในสถานการณ์”
ถือเป็นสภาวะการณ์ด้านใด

ก. ด้านวัตถุ

ข. จิตวิทยา

ค. ขวัญกำลังใจ

ง. ยุทธวิธี

๑๕๖. “ ความคิดถึงบ้าน ครอบครัว ความเบื่อหน่าย ข่าวลือ ขาดความเชื่อมั่นและขาดการติดต่อ” ถือเป็นสภาวะการณ์ด้านใด

ก. วัตถุ

ข. จิตวิทยา

ค. ขวัญกำลังใจ

ง. ยุทธวิธี

๑๕๗. การแตกสลายของหน่วย การสูญเสียจากความพ่ายแพ้ ความขัดแย้งในคำสั่ง การติดต่อสื่อสารผิดพลาดถือเป็นสภาวะการณ์ด้านใด

ก. ทางยุทธวิธี

ข. ขาดความเป็นผู้นำ

ค. ทางวัตถุ

ง. ทางจิตวิทยา

๑๕๘. ในฐานะที่ท่านเป็นผู้บังคับบัญชา หากทหารในหน่วยของท่านเกิดอาการตื่นตระหนกเนื่องจากเสียขวัญจากการรบท่านจะทำเช่นไร

ก. ใจเย็น แสดงทัศนคติที่กล้าหาญ ปฏิบัติหน้าที่อย่างเด็ดขาด

ข. ใช้อาวุธบังคับทหาร

ค. ยิงทหารที่เสียขวัญทั้งหมด

ง. รอให้เหตุการณ์สงบ

๑๕๙. สิ่งที่สำคัญที่สุด ในการพัฒนาความกล้าหาญในหน่วยทหารคืออะไร

ก. ฝึกฝนตนเอง

ข. ฝึกฝนทหารให้มีความชำนาญ

ค. บำรุงขวัญกำลังใจเสมอ ๆ

ง. แสดงความเป็นผู้นำให้ผู้ใต้บังคับบัญชาเห็น

๑๖๐. ในภารกิจแต่ละภารกิจ สิ่งใดเป็นสิ่งสำคัญที่สุด

ก. การปฏิบัติภารกิจที่สำเร็จลุล่วง

ข. ลูกน้องภายในหน่วย

ค. ผู้บังคับบัญชา

ง. ยุทธโศภรณ์ในหน่วยงาน

๑๗๑. ฝ่ายอำนวยการในระดับ พัน.ร. อยากทราบว่า ผอ.๑ ทำหน้าที่ใด
- ก. ด้านกำลังพล
ข. ด้านการข่าว
ค. ด้านยุทธการ
ง. ถูกทุกข้อ
๑๗๒. จากข้อ ๑๗๑. อยากทราบว่า ผอ.๓ ทำหน้าที่ใด
- ก. ด้านกำลังพล
ข. ด้านการข่าว
ค. ด้านยุทธการและการฝึก
ง. ด้านส่งกำลัง
๑๗๓. หน้าที่ของฝ่ายอำนวยการโดยปกติ มีอยู่ที่ประการ
- ก. ๓ ประการ
ข. ๔ ประการ
ค. ๕ ประการ
ง. ๖ ประการ
๑๗๔. การจำแนกกิจการกำลังพล มีอยู่ที่กิจการ
- ก. ๗ กิจ
ข. ๘ กิจ
ค. ๙ กิจ
ง. ๑๐ กิจ
๑๗๕. งานด้านกำลังพล การบันทึกประจำวัน ถือเป็นเอกสารประเภทใด
- ก. หลักฐานถาวร
ข. ชั่วคราว
ค. หลักฐานกึ่งถาวร
ง. ผิดทุกข้อ
๑๗๖. สิ่งบอกเหตุการเสียชีวิต มีอยู่ที่ประการ
- ก. ๕ ประการ
ข. ๖ ประการ
ค. ๗ ประการ
ง. ๘ ประการ
๑๗๗. กิจกรรมข่าวกรอง มีหมายรวมงาน 2 กิจ ได้แก่อะไรบ้าง
- ก. การข่าวกรอง ต่อต้านข่าวกรอง
ข. การยุทธ์ การข่าว
ค. ข่าวส่งกำลัง ข่าวสนับสนุน
ง. ผิดทุกข้อ
๑๗๘. ประเภทข่าวกรอง มีอยู่ที่ประเภท
- ก. ๑ ประเภท
ข. ๒ ประเภท
ค. ๓ ประเภท
ง. ๔ ประเภท
๑๗๙. จากข้อ ๑๗๘. ได้แก่ ข่าวกรองอะไรบ้าง
- ก. ยุทธศาสตร์
ข. ทางการรบ
ค. ยุทธศาสตร์ การรบ
ง. ผิดทุกข้อ
๑๘๐. การผลิตข่าวกรอง แบ่งออกเป็นกี่ชั้น
- ก. ๒ ชั้น
ข. ๓ ชั้น
ค. ๔ ชั้น
ง. ๕ ชั้น

๑๘๑. การจำแนกข้อยุทธการและการฝึก มีอยู่ที่กี่งาน

ก. ๒ กิ่ง

ข. ๓ กิ่ง

ค. ๔ กิ่ง

ง. ๕ กิ่ง

๑๘๒. ภารกิจที่เป็นหัวใจของนายทหารยุทธการ ได้แก่ งานใด

ก. การประมาณสถานการณ์

ข. หนทางปฏิบัติ

ค. การฝึก

ง. การวิเคราะห์

๑๘๓. สิ่งอุปกรณ์ประเภทที่ ๓ (สป.๓) ได้แก่ สป.ใด

ก. ข้าวสาร

ข. น้ำมัน

ค. น้ำ

ง. ถูกทุกข้อ

๑๘๔. สิ่งอุปกรณ์ประเภทที่ ๕ (สป.๕) ได้แก่ สป.ใด

ก. น้ำมัน

ข. อาหาร

ค. กระสุน วัตถุระเบิด

ง. ผิดทุกข้อ

วิชา การติดต่อสื่อสาร

๑๘๕. ระบบการสื่อสารประเภทใดที่ให้การสนทนาโต้ตอบระหว่างบุคคล มีความปลอดภัยมากที่สุด

ก. วิทยุ

ข. โทรศัพท์

ค. เสียงสัญญาณ

ง. ทักสัญญาณ

๑๘๖. ข้อใดมิใช่ภารกิจและการใช้งานเครื่องมือสื่อสารประเภทสาย

ก. ใช้ในการควบคุมการยิง

ข. ใช้ในการควบคุมทางยุทธวิธี

ค. ใช้ในการสื่อสารระหว่างอากาศ-พื้นดิน

ง. ใช้ในการติดต่อทางธุรการ

๑๘๗. ระบบการสื่อสารที่ใช้เวลาในการติดตั้งมากที่สุดคือข้อใด

ก. ทางสาย

ข. วิทยุ

ค. ไปรษณีย์

ง. สัตว์นำสาร

๑๘๘. วิธีส่งข่าวที่ปลอดภัยน้อยที่สุดคือข้อใด

ก. โทรศัพท์

ข. นำสาร

ค. ทักสัญญาณ

ง. วิทยุ

๑๘๙. ข้อใดไม่ใช่ข้อดีของการสื่อสารประเภทวิทยุ

ก. ติดตั้งได้รวดเร็ว

ข. ติดตั้งบนยานพาหนะได้

ค. พูดสวนทางกันได้

ง. ติดต่อกได้ในขณะเคลื่อนที่

๑๕๐. วิทยุ ๑ สถานีประกอบด้วยข้อใด

- ก. เครื่องรับ – เครื่องส่ง
- ข. เครื่องรับ – เครื่องส่ง – สายอากาศ
- ค. เครื่องรับ – เครื่องส่ง – แบตเตอรี่
- ง. เครื่องรับ – เครื่องส่ง – สายอากาศ – แหล่งกำเนิดงานไฟฟ้า

๑๕๑. โทรศัพท์สนาม TA – ๑/PT วงจรปากพูดใช้ไฟเลี้ยงกี่โวลต์

- ก. ๓ โวลต์
- ข. ๘๐ โวลต์
- ค. ๕ โวลต์
- ง. ไม่ใช้ไฟ

๑๕๒. สายโทรศัพท์สนาม WD – ๑/TT ประกอบด้วยหลอดทองแดงและหลอดเหล็กอย่างละกี่เส้น

- ก. หลอดทองแดง ๔ เหล็ก ๓
- ข. หลอดทองแดง ๓ เหล็ก ๔
- ค. หลอดทองแดง ๔ เหล็ก ๕
- ง. หลอดทองแดง ๕ เหล็ก ๔

๑๕๓. สถานีวิทยุควรตั้งอยู่บริเวณใด

- ก. ในอุโมงค์
- ข. บริเวณพื้นดินชั้น ๆ
- ค. บริเวณที่มีพุ่มไม้หนาทึบ
- ง. ไม่มีข้อถูก

๑๕๔. วิทยุที่จะสามารถติดต่อกันได้ยกเว้นข้อใด

- ก. ยี่ห้อเดียวกัน
- ข. ความถี่เดียวกัน
- ค. ระบบเดียวกัน
- ง. อยู่ในรัศมีการทำงาน

๑๕๕. ข้อใดไม่จัดอยู่ในข่ายวิทยุทางยุทธวิธี

- ก. ข่ายบังคับบัญชา
- ข. ข่ายการข่าว
- ค. ข่ายธุรการ
- ง. ข่ายอิสระ

๑๕๖. ข่ายวิทยุตามลักษณะการรับ – ส่งข่าว ของพนักงานวิทยุแบ่งออกเป็นข้อใด

- ก. ข่ายอิสระ – ข่ายธุรการ
- ข. ข่ายบังคับ – ข่ายเตือนภัย
- ค. ข่ายอิสระ – ข่ายบังคับ
- ง. ข่ายบังคับ – ข่ายธุรการ

๑๕๗. ข้อดีของการสื่อสารประเภทวิทยุคือข้อใด

- ก. พูดสวนทางกันได้
- ข. สามารถติดตติดตั้งบนยานพาหนะได้
- ค. ติดต่อกันได้ทุกภูมิภาค
- ง. ผิดทุกข้อ

๑๕๘. วิทยุ AN/PRC – ๗๗ มีการปรุ่กคลื่นแบบใด

- ก. FM
- ข. AM
- ค. MW
- ง. SW

๑๕๙. วิทยุ AN/PRC – ๗๗ ใช้งานในระดับใด

- ก. หมู่ - หมวค
- ข. หมวค - กองร้อย
- ค. หมู่ - กองร้อย
- ง. หมู่ - กองพัน

๒๐๐. วิทยุ AN/PRC – ๓๗ มีจำนวนช่องความถี่กี่ช่อง

ก. ๑๒๐ ช่อง

ข. ๒๕๐ ช่อง

ค. ๕๒๐ ช่อง

ง. ๑๕๒ ช่อง

๒๐๑. วิทยุ AN/PRC – ๓๗ เป็นวิทยุที่ใช้งานแบบใด

ก. แบบสะพานหลัง

ข. แบบหัวไปมา

ค. ติดตั้งบนยานพาหนะ

ง. ถูกทุกข้อ

๒๐๒. โทรศัพท์สนาม WD 1/TT ทนแรงดึงได้กี่ปอนด์

ก. ๑๐๐ ปอนด์

ข. ๒๐๐ ปอนด์

ค. ๓๐๐ ปอนด์

ง. ๔๐๐ ปอนด์

๒๐๓. วิทยุ PRC – ๖๒๔ มีการปรุกลิ้นแบบใด

ก. FM

ข. AM

ค. MW

ง. SW

๒๐๔. แหล่งพลังงานไฟฟ้าของวิทยุ AN/PRC – ๓๗ ได้มาจากข้อใด

ก. BA – ๓๐

ข. BA – ๕๐

ค. BA – ๓๘๖

ง. BA – ๓๗๗

๒๐๕. วิทยุ PRC – ๖๒๔ ใช้งานในระดับใด

ก. กองพัน – กรม

ข. กองร้อย – กองพัน

ค. หมวด – กองร้อย

ง. หมู่ – หมวด

๒๐๖. วิทยุ PRC – 624 มีจำนวนช่องความถี่กี่ช่อง

ก. ๒,๓๒๐ ช่อง

ข. ๓,๒๓๐ ช่อง

ค. ๓,๓๒๐ ช่อง

ง. ๓,๕๐๐ ช่อง

๒๐๗. วิทยุ PRC – ๖๒๔ ตั้งความถี่ล่วงหน้าได้กี่ช่อง

ก. ๕ ช่อง

ข. ๑๐ ช่อง

ค. ๑๕ ช่อง

ง. ๒๐ ช่อง

๒๐๘. ระยะการติดต่อสื่อสาร (วางแผน) ของวิทยุ PRC – ๖๒๔ คือข้อใด

ก. ๑๐ กม.

ข. ๑๘ กม.

ค. ๕ – ๘ กม.

ง. ๑๕ – ๒๐ กม.

๒๑๘. จากข้อ ๒๑๘ มีขนาดเท่าใด

ก. ๕๐ องศา x ๔๕ องศา x ๔๕ องศา

ข. ๖๐ องศา x ๔๐ องศา x ๔๐ องศา

ค. ๗๐ องศา x ๔๕ องศา x ๔๕ องศา

ง. ๘๐ องศา x ๔๕ องศา x ๔๕ องศา

๒๒๐. ป้ายการเตือนพิษกัมมันตรังสี เขียนคำว่าอะไร

ก. BIO

ข. GAS

ค. ATOM

ง. TOA

๒๒๑. ป้ายการเตือนชีวะ เขียนคำว่าอะไร

ก. BIO

ข. GAS

ค. ATOM

ง. TOA

๒๒๒. ป้ายการเตือนพิษเคมี เขียนคำว่าอะไร

ก. ATOM

ข. GAS

ค. BIO

ง. TOA

๒๒๓. จากข้อ ๒๒๒ ขนาดของตัวอักษรสูงเท่าใด

ก. ๓ ซม.

ข. ๔ ซม.

ค. ๕ ซม.

ง. ฝึกทุกข้อ

๒๒๔. ตัวอักษรคำว่า GAS เขียนด้วยสีอะไร

ก. น้ำเงิน

ข. ขาว

ค. เหลือง

ง. แดง

๒๒๕. ป้ายการเตือนพิษกัมมันตรังสี อักษร ATOM

ใช้สีอะไร

ก. น้ำเงิน

ข. ขาว

ค. เหลือง

ง. ดำ

๒๒๖. ป้ายการเตือนชีวะ พื้นป้ายสีอะไร

ก. น้ำเงิน

ข. ขาว

ค. เหลือง

ง. ดำ

๒๒๗. ป้ายการเตือนพิษเคมี พื้นป้ายใช้สีอะไร

ก. น้ำเงิน

ข. ขาว

ค. เหลือง

ง. ดำ

๒๒๘. จากข้อ ๒๒๗ ตัวอักษรใช้สีอะไร

ก. น้ำเงิน

ข. ขาว

ค. เหลือง

ง. แดง

๒๓๓. ปลย.เอ็ม ๑๖ เอ ๑ มีระยะยิง ๒ ระยะ คือระยะยิงไกลสุด และระยะยิงหวังผล ข้อใดกล่าวถูกต้องเกี่ยวกับระยะยิงไกลสุดของ ปลย.เอ็ม ๑๖ เอ ๑

- | | |
|---------------|---------------|
| ก. ๒,๕๖๓ เมตร | ข. ๓,๖๕๒ เมตร |
| ค. ๒,๖๕๓ เมตร | ง. ๓,๕๖๓ เมตร |

๒๓๔. ปลย.เอ็ม ๑๖ เอ ๑ มีขนาดกว้างปากลำกล้อง ๕.๕๖ มม. ใช้กระสุนขนาด ๕.๕๖ มม.X ๔๕ มม. อยากทราบว่ากระสุนที่ใช้ยังมีกี่ชนิด

- | | |
|-----------|-----------|
| ก. ๒ ชนิด | ข. ๓ ชนิด |
| ค. ๔ ชนิด | ง. ๕ ชนิด |

๒๓๕. ข้อใดกล่าวถูกต้องเกี่ยวกับระยะยิงหวังผลของ ปลย.เอ็ม ๑๖ เอ ๑

- | | |
|-------------|-------------|
| ก. ๔๖๐ เมตร | ข. ๕๐๐ เมตร |
| ค. ๓๖๐ เมตร | ง. ๔๐๐ เมตร |

๒๓๖. ในการเรียนอาวุธศึกษาจะต้องเรียนรู้เรื่องการถอดประกอบอาวุธ การถอดประกอบปกติเป็นหน้าที่ของผู้ใด

- | | |
|---------------------|--------------------|
| ก. ผู้ใช้อาวุธ | ข. พลทหาร |
| ค. เจ้าหน้าที่อาวุธ | ง. ข้อ ก และ ข ถูก |

๒๓๗. การถอดประกอบ ปลย.เอ็ม ๑๖ เอ ๑ มีความมุ่งหมายเพื่อศึกษา,แก้ไขเหตุขัดข้อง และทำความสะอาด แบ่งเป็นกี่ประเภท

- | | |
|-------------|-------------|
| ก. ๑ ประเภท | ข. ๒ ประเภท |
| ค. ๓ ประเภท | ง. ๔ ประเภท |

๒๓๘. ศูนย์หน้า ปลย.เอ็ม ๑๖ เอ ๑ สามารถปรับทางระยะได้ โดยปรับเป็น คลิ๊ก เมื่อปรับศูนย์หน้า ๑ คลิ๊กมีค่าเท่าไร

- | | |
|------------|------------|
| ก. ๒.๕ ซม. | ข. ๒.๔ ซม. |
| ค. ๒.๘ ซม. | ง. ๓ ซม. |

๒๓๙. ศูนย์หลังของ ปลย.เอ็ม ๑๖ เอ ๑ เป็นแบบ ศูนย์กระดก มี ๒ ช่องเล็ง ถ้าผู้ใช้เล็งด้วยช่องเล็งเล็ก ใช้เล็งยิงระยะเท่าไร

- | | |
|-----------------|-----------------|
| ก. ๑๐๐-๓๐๐ เมตร | ข. ๐-๓๐๐ เมตร |
| ค. ๓๐๐-๕๐๐ เมตร | ง. ๔๐๐-๖๐๐ เมตร |

๒๔๐. ศูนย์หลังของ ปลย.เอ็ม ๑๖ เอ ๑ ถ้าผู้ยิงใช้ช่องเล็งรูใหญ่ ใช้เล็งยิงระยะเท่าไร

- | | |
|-----------------|-----------------|
| ก. ๑๐๐-๓๐๐ เมตร | ข. ๐-๓๐๐ เมตร |
| ค. ๓๐๐-๕๐๐ เมตร | ง. ๔๐๐-๖๐๐ เมตร |

๒๔๕. ศูนย์หลัง ปลย.เอ็ม ๑๖ เอ ๑ สามารถปรับทางทิศได้ ถ้าปรับ ๑ คลิก จะมีค่าเท่าไร

ก. ๒.๕ ซม.

ข. ๒.๔ ซม.

ค. ๒.๘ ซม.

ง. ๓ ซม.

๒๔๖. การจับถืออาวุธ จะต้องระลึกระดมว่า มีกระสุนอยู่ในรังเพลิง ๑ นัดเสมอ ผู้ใช้จะต้องตรวจความปลอดภัยอาวุธเสียก่อน ข้อใดกล่าวถูกต้องเกี่ยวกับการตรวจอาวุธ

ก. ถอดซองกระสุนปืนออก

ข. เปิดลูกเลื่อนค้างไว้

ค. ตรวจดูในรังเพลิง

ง. ถูกทุกข้อ

๒๔๗. ปลย.เอ็ม ๑๖ เอ ๑ เป็นอาวุธประจำกายที่มีน้ำหนักเบา อยากทราบว่าปืนเมื่อบรรจุกระสุน ๒๐ นัด พร้อมสายสะพายหนักเท่าไร

ก. ๖.๕ ปอนด์

ข. ๗.๖ ปอนด์

ค. ๖.๗ ปอนด์

ง. ๕.๖ ปอนด์

๒๔๘. การบำรุงรักษาและทำความสะอาดปืน มีวัตถุประสงค์เมื่อนำไปใช้แล้ว ขออย่าให้ปืนเกิดเหตุติดขัด และเมื่อทำการยิงขอให้ถูกเป้าหมาย สำหรับ ปลย.เอ็ม ๑๖ เอ ๑ มีส่วนสำคัญที่จะต้องทำความสะอาด คืออะไร

ก. ภายในลำกล้องปืน

ข. ชุดโครงนำลูกเลื่อน

ค. ส่วนภายนอกปืน

ง. ข้อ ก และ ข ถูก

วิชา ปืนพก ๘๖

๒๔๙. ปืนพก ๘๖ จัดเป็นอาวุธประจำกาย ที่มีน้ำหนักเบา ใช้งาน คล่องตัว มีกว้างปากลำกล้องเท่าไร

ก. ๑๑ มม.

ข. ๘ มม.

ค. ๖ มม.

ง. ๔๕ นิ้ว

๒๕๐. ปืนพก ๘๖ ทำการยิงเป็นกึ่งอัตโนมัติ หรือยิงทีละนัด โดยผู้ใช้อาวุธเมื่อเหนี่ยวไกปืนแล้วต้องปล่อยไกเสียก่อนจึงยิงกระสุนนัดต่อไปได้ ป้อนกระสุนด้วยอะไร

ก. สายกระสุน

ข. ซองกระสุน

ค. ด้วยมือ

ง. คลิปกระสุน

๒๕๑. ปืนพก ๘๖ ทำการยิงเป็นกึ่งอัตโนมัติ เป็นอาวุธประจำกายของพลยิงอาวุธประจำหน่วย ป้อนกระสุนด้วยซองกระสุนซึ่งบรรจุได้ กี่นัด

ก. ๑๐ นัด

ข. ๘ นัด

ค. ๗ นัด

ง. ๑๕

๒๕๒. เป้าที่ใช้ทำการยิงปืนพก มีเป้าหมายคนที่เรียกว่า เป้าหุ่น ข คือ เป้าอะไร

ก. นอน

ข. นั่ง

ค. ยืน

ง. ไม่มีข้อถูก

๒๕๓. ปืนพก ๘๖ ที่ศึกษาในชั้นปีที่ ๔ เพื่อทำการฝึกการใช้อาวุธประจำกายในชั้นปีที่ ๕ ซึ่งมีอยู่หลายแบบ ปืนพก ๘๖ มีกี่แบบ

ก. ๔ แบบ

ข. ๓ แบบ

ค. ๒ แบบ

ง. ๑ แบบ

๒๕๔. ข้อที่แตกต่างกันของปืนพก ๘๖ ทั้ง ๒ แบบคือแบบเก่า และแบบที่พัฒนาขึ้นเพื่อให้คล้องตัวในการใช้งาน มีกี่ประการ

ก. ๓ ประการ

ข. ๔ ประการ

ค. ๕ ประการ

ง. ๖ ประการ

๒๕๕. ปืนพก ๘๖ เป็นอาวุธประจำกายและใช้ป้องกันตัวในระยะใกล้ และป้องกันตัวพลยิงอาวุธประจำหน่วย ทำงานด้วยอะไร

ก. ด้วยแก๊ส

ข. ด้วยการถอยหลังของส่วนเคลื่อนที่

ค. ด้วยการสะท้อนถอยหลังของลำกล้อง

ง. ด้วยลูกเลื่อน

๒๕๖. ปืนพก ๘๖ ป้อนกระสุนด้วยซองกระสุน ทำการยิงกึ่งอัตโนมัติ มีระยะยิงหวังผลในระยะใกล้ มีระยะยิงไกลสุดเท่าไร

ก. ๑,๐๐๐ เมตร

ข. ๑,๕๐๐ เมตร

ค. ๒,๐๐๐ เมตร

ง. ๒,๕๐๐ เมตร

๒๕๗. ปืนพก ๘๖ ป้อนกระสุนด้วยซองกระสุน ทำการยิงกึ่งอัตโนมัติ หรือยิงทีละนัด มีระยะยิงหวังผลเท่าไร

ก. ๑๐๐ เมตร

ข. ๘๐ เมตร

ค. ๕๐ เมตร

ง. ๑๕ เมตร

๒๕๘. ปืนพก ๘๖ เป็นปืนอาวุธที่มีขนาดน้ำหนักเบา สำหรับป้องกันตัวของพลยิงอาวุธประจำหน่วยต่างๆ ปืนพก ๘๖ เป็นอาวุธประจำกายของตำแหน่งอะไร

ก. พลยิง ค. เอ็ม ๒๐๓

ข. พลยิงผู้ช่วย ค. ๘๑

ค. พลยิงผู้ช่วย ปก.เอ็ม ๖๐

ง. พลยิง ปก.เอ็ม ๖๐

๒๕๙. ปืนพก ๘๖ สามารถบรรจุกระสุนได้ ๗ นัด มีน้ำหนักตัวปืนบรรจุกระสุนเต็มของหนักเท่าไร

ก. ๒.๕ กก.

ข. ๒.๔๓๗ ปอนด์

ค. ๑.๘ กก.

ง. ๑.๔๓๗ ปอนด์

๒๖๐. ปืนพก ๘๖ มีระยะยิงหวังผลในระยะใกล้และใช้ทำที่ยิงเป็นหลัก และทำยิงทำนองรบเท่าที่จำเป็นในการต่อสู้ป้องกันตัวมีกระสุนอยู่ที่ชนิด

ก. ๔ ชนิด

ข. ๕ ชนิด

ค. ๖ ชนิด

ง. ๗ ชนิด

๒๖๘. ปีนพก ๘๖ แบบ ๑๕๑๑ A๑ เป็นแบบที่พัฒนาขึ้นเพื่อให้เกิดความคล่องตัวในการใช้งาน มีความแตกต่างจากป็นพก ๘๖ แบบ ๑๕๑๑ อย่างไร

- ก. มีลำกล้องยาวกว่า
ข. มีด้ามปืนใหญ่กว่า
ค. มีหางห้ามไกช่วยยาวกว่า
ง. ทำการยิงแม่นยำกว่า

๒๖๙. การตรวจสอบเครื่องนิรภัยของปืนพกมีอยู่หลายวิธี ผู้ใช้ต้องตรวจสอบปืนพกก่อนใช้งาน เครื่องนิรภัยของปืนพก ๘๖ มีอะไรบ้าง

- ก. ห้ามไก
ข. ห้ามไกช่วย
ค. การขึ้นนกชั้นที่ ๑(ครั้งเดียว)
ง. ถูกทุกข้อ

๒๗๐. การฝึกใช้ปืนพก ๘๖ มีขั้นตอนการฝึกอยู่ ๘ ขั้นตอน ขั้นตอนการ “เลิกบรรจุ” สิ่งที่ต้องทำลำดับแรกคืออะไร

- ก. ห้ามไก
ข. ปลดของกระสุน
ค. เปิดรังเพลิง
ง. วางปืน

๒๗๑. การใช้ปืนพกก่อนใช้ต้องตรวจสอบระบบนิรภัยก่อน ถ้าปืนพก ๘๖ ตรวจสอบว่าเครื่องนิรภัยไม่อยู่ในสภาพปกติ ควรปฏิบัติอย่างไร

- ก. รายงานให้นายสิบช่างอาวุธทราบทันที
ข. รายงานต่อ ผบ.หมวด ทราบทันที
ค. รายงานต่อ ผบ. ร้อย ทราบทันที
ง. ถูกทั้งข้อ ข. และข้อ ค.

๒๗๒. กระสุนปืนพก ๘๖ มีอยู่หลายชนิด มีอยู่ชนิดหนึ่งชื่อว่ากระสุนลูกปราย มีประโยชน์ในการใช้อย่างไร

- ก. ใช้ฝึกยิง
ข. ใช้ยิงเข้าศึก
ค. ใช้ในการล่าสัตว์
ง. ไม่มีข้อถูก

๒๗๓. กระสุนของอาวุธประจำกาย มีหลายชนิดขึ้นอยู่กับการใช้งานและมีแถบสีที่หัวกระสุนเพื่อบอกชนิดกระสุนให้เหมาะแก่การใช้งาน กระสุนปืนพก ที่มีแถบสีแดงที่หัวกระสุน ชื่อว่าอะไร

- ก. กระสุนจริง
ข. กระสุนลูกปราย
ค. กระสุนซ้อมรบ
ง. กระสุนส่องวิถี

๒๗๔. ปืนพก ๘๖ มีน้ำหนัก ๑.๑๐๓ กก. ตัวของกระสุนบรรจุกระสุนเต็มของหนักเท่าไร

- ก. ๐.๐๕๐๑ กก.
ข. ๒.๔๓๗ ปอนด์
ค. ๐.๒๑๑๘ กก.
ง. ไม่มีข้อถูก

๒๗๕. ทำยิงของปืนเล็กยาวปกติมี ๕ ทำยิง ทำยิงปืนพกปกติ มีกี่ทำยิง

- ก. ทำยิงเดียว
ข. ๒ ทำยิง
ค. ๓ ทำยิง
ง. ๔ ทำยิง

๒๓๗. ทำยิปป็นพค ๘๖ เพื่อฝีกไว้ใช้ป้องกันตัวผู้ใช้อาวุธประจำกายทำยิปตามทำนองรบของป็นพค ๘๖ มีกัทำยิป

ก. ๓ ทำยิป

ข. ๒ ทำยิป

ค. ทำยิปเดียว

ง. ไม่มีข้อถูก

๒๓๘. ป็นพค ๘๖ กองทัพได้นำมาใช้ประจำการ เป็นอาวุธประจำกายของพลรบ ที่มีตำแหน่งพลยิงอาวุธ ประจำหน่วย มีความยาวทั้งกระบอก เท่าไร

ก. ๒๑๑.๕๐ มม.

ข. ๑๒๘ มม.

ค. ๒๑๕.๕๐ มม.

ง. ๒๑๗.๕๐ มม.

๒๓๙. ป็นพค ๘๖ จัดเป็นอาวุธประจำกาย ภายในลำกล้องมีเกลียวเวียนซ้าย จำนวนเกลียวภายในลำ กล้องมีเกลียวเวียนซ้ายกัเกลียว

ก. ๔ เกลียว

ข. ๖ เกลียว

ค. ๘ เกลียว

ง. ไม่มีข้อถูก

๒๔๐. การใช้ศูนย์ทำการเล็งเป้าหมาย ป็นพค ๘๖ มีวิธีการเล็งป็นใน การจัดศูนย์พอดั อย่งไร

ก. ให้ออดศูนย์หน้าเล็งกักลางเป้าหมาย

ข. ให้ออดศูนย์หน้าอยู่กักลางศูนย์บากรูปตัวย

ค. ให้ออดศูนย์หน้าอยู่กักลางรูวงกลมศูนย์หลัง

ง. ข้อ ค. ถูก

วิชา หมูป็นเล็กเข้าดี , หมูป็นเล็กตั้งรับ - ถอนตัว

๒๔๑. ข้อใดหมายถึงการรบด้วยวิธีรุก

ก. การเคลื่อนที่เข้าปะทะการเข้าดี

ข. เตรียมการ

ค. ปฏิบัติการเข้าดี

ง. การยึดที่หมาย และเสริมสร้างควมมั่นคง

๒๔๒. การเข้าดีแบ่งชั้นการเข้าดีเป็นกัชั้น

ก. ๑ ชั้น

ข. ๒ ชั้น

ค. ๓ ชั้น

ง. ๔ ชั้น

๒๔๓. พื้นทีซึ่งหน่วยทหารทีจะเข้าดีได้มารวมกันอยู่ก่อนทีจะปฏิบัติทางยุทธวิธี คือ

ก. แนวประสานการปฏิบัติขั้นสุดท้าย

ข. แนวออกดี

ค. ฐานออกดี

ง. ทีรวมพล

๒๔๔. แนวทีห่างจากทีหมาย ๓๐๐ - ๑,๐๐๐ เมตร คือข้อใด

ก. แนวออกดี

ข. ฐานออกดี

ค. ทีรวมพล

ง. ทีศทางการเข้าดี

๒๘๕. การตั้งรับมี ๒ แบบคือ
- ก. แบบหลัก , แบบรอง
ข. แบบตรง , แบบวงกลม
ค. แบบพื้นที่ , แบบเคลื่อนที่
ง. แบบเส้นตรง , แบบสี่เหลี่ยม
๒๘๖. การตั้งรับแบบพื้นที่เป็น ๒ ส่วนคือ ข้อใด
- ก. พื้นที่ส่วนระวังป้องกัน , พื้นที่การรบ
ข. กองรักษาด่านรบ , กองรักษาด่านทั่วไป
ค. พื้นที่การรบ , พื้นที่กองหนุน
ง. พื้นที่ส่วนระวังป้องกัน
๒๘๗. ข้อใดมิใช่ประเภทของการร่นถอย
- ก. การถอนตัว
ข. การรบน่วงเวลา
ค. การถอย
ง. การเดินเร่งรีบ
๒๘๘. การถอนตัวโดยสมัครใจ โดยจะปฏิบัติเวลาใด
- ก. เวลาเที่ยงตรง
ข. เวลากลางคืน
ค. เวลาเช้า
ง. เวลาใดก็ได้
๒๘๙. ข้อใดคือ ภารกิจของหมู่ปืนเล็กในแนวหน้าตั้งรับ
- ก. ขับไล่ข้าศึกด้วยการรบประชิด
ข. เพื่อรอโอกาสเป็นฝ่ายรุก
ค. เพื่อทำลาย
ง. เพื่อขัดขวางข้าศึกเข้ามาสู่พื้นที่สำคัญ
๒๙๐. พื้นที่การรบแบ่งเป็น ๒ ส่วน คือ
- ก. พื้นที่ตั้งรับหน้า , พื้นที่กองรักษาด่านรบ
ข. พื้นที่ตั้งรับหน้า , พื้นที่กองรักษาด่านทั่วไป
ค. พื้นที่ตั้งรับหน้า , พื้นที่กองหนุน
ง. พื้นที่กองหนุน , พื้นที่กองรักษาด่าน
๒๙๑. กว้างด้านหน้าของหมู่ปืนเล็ก วางกำลังในการตั้งรับเท่าใด
- ก. ๓๐ - ๕๐๐ เมตร
ข. ๓๐ - ๖๐๐ เมตร
ค. ๓๐๐ - ๑,๖๐๐ เมตร
ง. ๓๐ - ๑๐๐ เมตร
๒๙๒. ส่วนระวังป้องกันเฉพาะตำบลในเวลากลางวันเรียกว่า
- ก. ยามฟังการณื
ข. ยามคอยเหตุ
ค. ยามระวังป้องกัน
ง. ไม่มีข้อใดถูก
๒๙๓. ที่รวมพลอยู่ห่างจากฐานออกตี ในระยะใช้เวลาเดินเท้าไม่เกิน ๑ ชั่วโมง หรือประมาณกี่กิโลเมตร
- ก. ๔ กม.
ข. ๕ กม.
ค. ๖ กม.
ง. ๗ กม.

๒๙๔. ข้อใดไม่ใช่ลักษณะอันพึงประสงค์ของที่รวมพล
- ก. มีการกำบัง และการซ่อนพราง
 - ข. มีพื้นที่กว้างพอที่จะกระจายกำลัง
 - ค. ปลอดภัยจากการโจมตีทั้งทางภาคพื้นดิน และทางอากาศ
 - ง. พื้นที่ที่ข้าศึกสามารถตรวจการณ์ได้ชัดเจน
๒๙๕. เป็นตำบลสุดท้ายที่ทำให้การปกปิดกำบัง และซ่อนพรางอยู่ใกล้กับแนวออกตี หมู่ต่าง ๆ จัดรูปขบวนเข้าตี และทำการติดต่อประสานงานเป็นครั้งสุดท้าย เราเรียกตำบลนี้ว่าอะไร
- ก. ที่รวมพล
 - ข. ฐานออกตี
 - ค. แนวออกตี
 - ง. ที่หมาย
๒๙๖. ส่วนระวางป้องกันเฉพาะตำบล ในเวลากลางคืนนิยมจัดจำนวนกี่นาย
- ก. ๑ นาย
 - ข. ๒ - ๔ นาย
 - ค. ๖ - ๘ นาย
 - ง. ๑๑ - ๑๒ นาย
๒๙๗. ในขั้นเตรียมการตั้งรับ การขุดคูติดต่อกับหลุมบुकคสิ่งใดทำก่อน
- ก. คูติดต่อ
 - ข. หลุมบुकค
 - ค. คูติดต่อไม่ต้องขุด
 - ง. หลุมบुकคไม่ต้องขุด
๒๙๘. ขอบบนของแผ่นจระยะของพลปืนเล็กจะมีบรรทัดวัดมุมมีค่าช่องละ ๕ องศา มีไว้เพื่ออะไร
- ก. เพื่อบันทึกผลการยิง
 - ข. เพื่อกะระยะ
 - ค. เพื่อย้ายการยิง
 - ง. เพื่อสะดวกในการกำหนดที่หมาย และเขตการยิง
๒๙๙. แนวที่ห่างจากขอบหน้าพื้นที่ทำการรบประมาณ ๒๐๐ เมตร คือแนวใด
- ก. แนวยิงฉากป้องกันขั้นสุดท้าย
 - ข. แนว ขนพร.
 - ค. แนว กดร.
 - ง. แนว กคป.
๓๐๐. การถอนตัวนอกความกดดัน ส่วนดำเนินกลยุทธ์จะเหลือทิ้งไว้ปะทะเท่าใด
- ก. ๑ ใน ๒
 - ข. ๑ ใน ๓
 - ค. ๑ ใน ๔
 - ง. ๒ ใน ๓
๓๐๑. การถอนตัวนอกความกดดันของอาวุธประจำหน่วยจะเหลือทิ้งไว้ปะทะเท่าใด
- ก. ๑ ใน ๒
 - ข. ๑ ใน ๓
 - ค. ๑ ใน ๔
 - ง. ๒ ใน ๓

๓๐๒. การปฏิบัติการณ์ร่นถอยมี ๓ ประเภทคือ
- ก. การถอย , การถอนตัว , การรบน่วงเวลา
 - ข. การรบน่วงเวลา , การผละ , การขยายผล
 - ค. การถอย , การประวิงเวลา , การถอนตัว
 - ง. การถอนตัว , การรบน่วงเวลา , การหลีกเลี่ยง
๓๐๓. การถอนตัวนอกความกดดันของหมู่ปืนกล จะเหลือทิ้งไว้ปะทะ จำนวนกี่กระบอก
- ก. ๑ กระบอก
 - ข. ๒ กระบอก
 - ค. ๓ กระบอก
 - ง. ๔ กระบอก
๓๐๔. การถอนตัวในความกดดัน ข้อใดกล่าวถูกต้อง
- ก. การถอนตัวตามเวลากำหนด
 - ข. หน่วยที่ถูกด้านทานจากข้าศึกมากถอนตัวก่อน
 - ค. หน่วยที่ถูกด้านทานจากข้าศึกน้อยถอนตัวก่อน
 - ง. ถูกทุกข้อ
๓๐๕. การถอนตัวนอกความกดดันที่รวมพลของหมู่ปืนเล็กผู้ใดเป็นผู้กำหนด
- ก. ผบ.หมู่
 - ข. ผบ.หมวด
 - ค. ผบ.ร้อย
 - ง. ผบ.พัน
๓๐๖. ภารกิจสำคัญของหมู่ปืนเล็กในการตั้งรับ คือ
- ก. การแจ้งข่าวสาร
 - ข. ชัดขวางข้าศึก
 - ค. ตีโต้ตอบ
 - ง. ยับยั้ง และขับไล่ข้าศึกด้วยการรบประชิด
๓๐๗. การปฏิบัติการณ์เข้าตีของหมู่ปืนเล็ก ทำการเข้าตีโดยกำลังส่วนหนึ่งของหน่วยระดับใด
- ก. หมวดปืนเล็ก
 - ข. กองร้อยอาวุธเบา
 - ค. กองพันทหารราบ
 - ง. ไม่มีข้อใดถูก
๓๐๘. ข้อใดคือ ภารกิจของหมู่ปืนเล็กเข้าตี
- ก. ยึดครองภูมิประเทศ
 - ข. ทำลายแหล่งทรัพยากร
 - ค. ตัดกำลังข้าศึก
 - ง. เข้าประชิดทำลาย , จับข้าศึกเป็นเชลย
๓๐๙. ใครเป็นผู้ปฏิบัติหน้าที่แทน ผบ.หมู่ เมื่อ ผบ.หมู่ ไม่อยู่
- ก. หัวหน้าชุดยิง ก. และ ข. (ที่อาวุโส) คนใดคนหนึ่ง
 - ข. พลยิงเครื่องยิงลูกระเบิด (เอ็ม ๒๐๓)
 - ค. พลยิงปืนเล็กอัตโนมัติ (ปล.อ.)
 - ง. พลปืนเล็ก

๓๑๐. เป็นตำบลสุดท้ายที่ทำให้การปกปิดกำบัง และซ่อนพรางอยู่ใกล้กับแนวออกดี หมู่ต่าง ๆ จัดรูป ขบวนเข้าดี และทำการติดต่อประสานงานเป็นครั้งสุดท้าย เราเรียกตำบลนี้ว่า

- ก. ที่รวมพล
- ข. ฐานออกดี
- ค. แนวออกดี
- ง. ที่หมาย

๓๑๑. คำสั่งประกอบด้วยภารกิจ เวลาปฏิบัติการ การแนะนำโดยเฉพาะเจาะจงถ้ามีเวลา และ สถานการณ์ที่ออกคำสั่งสมบูรณ์ เราเรียกคำสั่งนี้ว่า

- ก. คำสั่งยุทธการณ ๕ ข้อ
- ข. คำสั่งเตรียม
- ค. คำสั่งเป็นส่วน
- ง. คำสั่งผู้บังคับบัญชา

๓๑๒. การปฏิบัติของผู้บังคับหมู่ ขณะรับคำสั่งเข้าดีข้อใดกล่าวได้ถูกต้อง

- ก. เลือกที่อยู่ ณ. ที่ที่เหมาะสมจะรับคำสั่ง และเตรียมการบันทึกไว้ให้พร้อม
- ข. ชักซ้อมข้อสงสัยเกี่ยวกับลักษณะภูมิประเทศ
- ค. ต้องเข้าใจภารกิจของหมวด และปฏิบัติภารกิจนั้นให้เป็นผลสำเร็จ
- ง. ที่กล่าวมาถูกทุกข้อ

วิชาการสงครามพิเศษ

๓๑๓. การก่อความไม่สงบ ใช้วิธีการหลายรูปแบบแต่ฐานการสนับสนุนที่สำคัญอย่างหนึ่งมาจาก ?

- ก. ทหาร
- ข. กิ่งทหาร
- ค. เจ้าหน้าที่ในพื้นที่
- ง. ประชาชน

๓๑๔. สาเหตุของการก่อความไม่สงบ ข้อใดกล่าวถูกต้อง ?

- ก. ประชาชนที่ต่อแหลม
- ข. การชี้นำและการชักนำจากภายนอก
- ค. มาตรการควบคุมของรัฐที่เข้มแข็ง
- ง. ปัจจัยข้างต้นผสมผสานกัน

๓๑๕. ยุทธศาสตร์การก่อความไม่สงบกำหนดได้ ๓ รูปแบบ วิธีการสร้างความขัดแย้งต่อรัฐบาลให้ ยึดเยื้อยาวนานอยากทราบ ว่า ใช้ยุทธศาสตร์ใด

- ก. ยุทธศาสตร์ขั้ว
- ข. ยุทธศาสตร์ซ้าย
- ค. ยุทธศาสตร์มวลชน
- ง. ยุทธศาสตร์การยุทธ

๓๑๖. การจัดตั้งองค์กรสำหรับก่อความไม่สงบ ผู้ที่กำหนดนโยบาย และกำกับดูแลการเคลื่อนไหวในการ การก่อความ ไม่สงบรวมทั้งควบคุมองค์กรพลเรือน และส่วนกำลังติดอาวุธ ได้แก่ส่วนใด

- ก. พรรคหรือองค์กรการนำ
- ข. องค์กรมวลชนพลเรือน
- ค. ส่วนกำลังติดอาวุธ
- ง. องค์กรด้านการเมือง

๓๑๗. ลักษณะการปฏิบัติการจู่โจมด้วยความรุนแรงใช้ห้วงระยะเวลาสั้นๆ แล้วถอนตัวออกอย่างรวดเร็ว เป็นการปฏิบัติ ในรูปแบบใด

- ก. การปฏิบัติการจิตวิทยา
- ข. การปฏิบัติการของกองโจร
- ค. พลเรือน, ตำรวจ, ทหาร
- ง. การปฏิบัติการของก่อการร้าย

๓๑๘. ยุทธศาสตร์ในการ ปปส. ประกอบ ๔ ส่วน อยากรบว่าการจัดตั้ง และระดมประชาชนให้สนับสนุนฝ่าย รัฐบาลคือ ส่วนใด

- ก. การพัฒนาที่สมดุล
- ข. การรักษาความปลอดภัย
- ค. การระดมสรรพกำลัง
- ง. การทำลายองค์กรการก่อความไม่สงบ

๓๑๙. หลักการ ปปส. ประกอบด้วย ๔ ประการ การหลีกเลี่ยงการใช้มาตรการที่รุนแรงตอบโต้ ใช้กำลังให้น้อยที่สุด ใช้ทางกฎหมายในการดำเนินการคือ ข้อใด

- ก. เอกภาพในการปฏิบัติ
- ข. ใช้ข่าวกรองให้มากที่สุด
- ค. ลดความรุนแรงให้เหลือน้อยที่สุด
- ง. รัฐบาลที่มีประสิทธิภาพ

๓๒๐. ในการปฏิบัติการตอบโต้ การก่อความไม่สงบนั้น ควรมุ่งการปฏิบัติลักษณะใด

- ก. เพิ่มความรุนแรง ให้ฝ่ายตรงข้ามยอมและมอบตัว
- ข. เพื่อป้องกันการก่อความไม่สงบ
- ค. ไม่ให้ยกระดับความรุนแรงมากขึ้น
- ง. ข้อ ข. และข้อ ค. ถูก

๓๒๑. การใช้กำลังใน ปปส. ประกอบด้วย

- ก. กำลังทหาร
- ข. กำลังกึ่งทหาร
- ค. กำลังตำรวจ
- ง. กำลังทหาร, กำลังกึ่งทหาร, กำลังตำรวจและกำลังอื่นๆ

๓๒๒. การปฏิบัติการหลักของทหารในการ ปปส. ได้แก่

- ก. การข่าวกรอง
- ข. การปฏิบัติการจิตวิทยา
- ค. การปฏิบัติทางยุทธวิธี
- ง. ถูกทั้งหมด

๓๒๓. ในการป้องกันและปราบปรามการก่อความไม่สงบ แบ่งออกเป็นกำหนดการหลัก ๓ ประการ และกำหนดการเสริม ๒ ประการ อยากรบว่ากำหนดการเสริม คือข้อใด

- ก. กรปรับปรุงสภาพแวดล้อมและช่วยเหลือประชาชน
- ข. การพิทักษ์ประชาชนและทรัพยากร
- ค. การปราบปรามกองกำลังติดอาวุธ
- ง. การปฏิบัติการจิตวิทยา

๓๒๔. ปัจจัยที่มีผลต่อความสำเร็จของการ ปปส. คือ

- ก. ใช้กำลังทหาร และจนท.พิเศษ อื่นๆ ให้มากที่สุดเท่าที่ทำได้
- ข. ใช้ความรุนแรงและเด็ดขาด
- ค. การที่ได้รับข่าวกรองที่ละเอียด ถูกต้อง ทันเวลา
- ง. ให้เสรีในการปฏิบัติให้กับระดับ ผบ.หน่วย อยู่ในพื้นที่

๓๒๕. การพิทักษ์ประชาชนและทรัพยากร มีวัตถุประสงค์ที่สำคัญ ๓ ประการ ข้อใดไม่ใช่
- ก. การจัดการสนับสนุน
 - ข. การค้นหาและตรอนองค์การก่อความไม่สงบ
 - ค. สนับสนุนการเคลื่อนไหวเพื่อก่อความไม่สงบ
 - ง. การสร้างสภาพแวดล้อมที่ปลอดภัย
๓๒๖. ความรู้เกี่ยวกับข้าศึก ลมฟ้าอากาศ ภูมิประเทศในพื้นที่ปฏิบัติการ ข่าวสารที่เกี่ยวกับความโน้มเอียง ความผูกพันคุณลักษณะของประชาชน ในพื้นที่ปฏิบัติการของกองโจร เรียกว่าข่าวประเภทใด
- ก. การรวบรวมข่าวสาร
 - ข. ข่าวกรองทางยุทธศาสตร์
 - ค. ข่าวกรองการรบ
 - ง. การต่อต้านข่าวกรอง
๓๒๗. บทบาทในการ ปจว. ในการสนับสนุนการปราบปรามกองกำลังติดอาวุธ กระทำเพื่อ
- ก. โจมตีจุดอ่อนของกองโจร
 - ข. ทำลายขวัญและกำลังใจในการต่อสู้
 - ค. การชักจูงให้ยอมแพ้และมอบตัว
 - ง. ถูกทุกข้อ
๓๒๘. ข้อใดไม่ใช่ภารกิจหลักของหน่วยรบพิเศษ ซึ่งมีเรื่องหลัก ๓ ประการ
- ก. การช่วยเหลือให้คำปรึกษาแนะนำ การวางแผนและฝึกกำลังทหาร, ดำรวจ และกำลังกึ่งทหาร
 - ข. จัดตั้งกำลังประชาชนเพื่อสนับสนุนฝ่ายรัฐบาล
 - ค. การปฏิบัติการยุทธวิธีโดยหน่วยรบพิเศษ
 - ง. ให้คำแนะนำในการประกอบอาชีพโดยทั่วไป
๓๒๙. หน่วย รพศ. ยังสามารถให้การสนับสนุนภารกิจอื่นๆ ได้อีก นอกจากภารกิจหลัก ได้แก่
- ก. ด้านการข่าว
 - ข. การ ปจว.
 - ค. การช่วยเหลือประชาชนตามขีดความสามารถ
 - ง. ถูกทุกข้อ
๓๓๐. ข้อใดไม่ใช่วัตถุประสงค์ของการจัดตั้งกำลังประชาชน ปปส.
- ก. เพื่อชี้้นำให้ประชาชนตื่นตัว
 - ข. ผนึกกำลังประชาชนเข้ากับฝ่ายปกครอง
 - ค. ฝึกและใช้กำลังประชาชนทำลายกวาดล้างแทนเจ้าหน้าที่
 - ง. สร้างและขยายกำลังประชาชนตามแนวชายแดน
๓๓๑. ขั้นตอนในการจัดตั้งกำลังประชาชน ประกอบด้วย ๕ ขั้นตอน คือ
- ก. ขั้นเตรียมการ
 - ข. ขั้นการดำเนินการทาง ปจว.
 - ค. ขั้นการทำลายโครงสร้างขบวนการของฝ่ายตรงข้าม
 - ง. ถูกทุกข้อ

๓๔๐. ชาติดใดที่ได้ชื่อว่า “ มนุษย์วิเศษ ” เกี่ยวกับการปฏิบัติภารกิจจิตวิทยาซึ่งทำลายขวัญข้าศึกของประชาชนที่ด้อยกว่า

- ก. เยอรมัน
- ข. โปแลนด์
- ค. สหรัฐอเมริกา
- ง. เวียดนาม

๓๔๑. ใครคือนักคิดทางพุทธศาสตร์สงครามกองโจรที่สำคัญ

- ก. เกลาส์ เซวิท
- ข. ชุนวู
- ค. เหมาเจ๋อตุง
- ง. ขงเบ้ง

๓๔๒. ความหมายของการปฏิบัติภารกิจจิตวิทยา คือ

- ก. กำหนดเป้าหมายหรือกลุ่มเป้าหมาย
- ข. เป้าหมายเปลี่ยนแปลงท่าทีและพฤติกรรม
- ค. กระทำเพื่อสนับสนุนวัตถุประสงค์ของชาติหรือหน่วยทหาร
- ง. ถูกทุกข้อ

๓๔๓. การปฏิบัติภารกิจจิตวิทยาเป็นส่วนหนึ่งของงานใด

- ก. การรักษาความมั่นคงภายใน
- ข. การพิทักษ์พื้นที่ส่วนหลัง
- ค. ด้านกิจการพลเรือนทางทหาร
- ง. การปฏิบัติการยุทธ

๓๔๔. การเผยแพร่ความรู้แก่ประชาชน เป็นวัตถุประสงค์หลักของเรื่องใด

- ก. การรักษาความมั่นคงภายใน
- ข. การรักษาผลประโยชน์ของชาติ
- ค. การพิทักษ์พื้นที่ส่วนหลัง
- ง. การประชาสัมพันธ์แห่งชาติ

๓๔๕. การยุยงให้เกิดการเอาใจออกห่าง ทำให้เกิดความแตกแยกของฝ่ายตรงข้าม

อยู่ในวัตถุประสงค์ข้อใด

- ก. วัตถุประสงค์ทางสร้างเสริม
- ข. วัตถุประสงค์ทางทำลาย
- ค. วัตถุประสงค์การโฆษณาชวนเชื่อ
- ง. วัตถุประสงค์เชิงรับ – เชิงรุก

๓๔๖. การใช้การโฆษณาชวนเชื่อและกิจกรรมต่างๆ เข้าดำเนินการจัดอยู่ในข้อใด

- ก. วัตถุประสงค์ของการปฏิบัติภารกิจจิตวิทยา
- ข. ความสำคัญของการปฏิบัติภารกิจจิตวิทยา
- ค. คุณลักษณะของการปฏิบัติภารกิจจิตวิทยา
- ง. หัวใจของความสำเร็จในการปฏิบัติภารกิจจิตวิทยา

๓๔๗. ข้อใดคือหัวใจของความสำเร็จในการปฏิบัติภารกิจจิตวิทยา

- ก. การข่าวกรองที่มีรายละเอียดและทันสมัย
- ข. การใช้ข้อมูลของทุกระดับหน่วย
- ค. การวางแผนที่เหมาะสมกับเวลา
- ง. ถูกทุกข้อ

๓๕๖. การปฏิบัติการจิตวิทยา สงครามนอกแบบ การปฏิบัติมุ่งไปสู่ประชาชนในพื้นที่ เพื่อชักจูงโน้มน้าวจิตใจให้มาเป็นฝ่ายเราหรือให้เข้าร่วมขบวนการต่อต้านฝ่ายตรงข้ามกระทำในลักษณะปกปิดผู้ปฏิบัติหลักได้แก่

- ก. เจ้าหน้าที่ฝ่ายปกครอง
- ข. เจ้าหน้าที่ของหน่วยรบพิเศษ
- ค. ขบวนการต่อต้านในท้องถิ่น
- ง. ข้อ ข. และข้อ ค. ถูก

๓๕๗. การปฏิบัติการจิตวิทยา เพื่อสนับสนุนการดำเนินการทำสงครามกองโจรและสนับสนุนในการปลดปล่อยทำลายเป็นหลัก ได้แก่

- ก. การปฏิบัติการจิตวิทยาในสงครามนอกแบบ
- ข. การปฏิบัติการจิตวิทยาทางยุทธศาสตร์
- ค. การปฏิบัติการจิตวิทยาทางยุทธวิธี
- ง. การปฏิบัติการจิตวิทยาในการเสริมความมั่นคง

๓๕๘. การปฏิบัติจิตวิทยาที่มีประสิทธิภาพนั้นขึ้นอยู่กับ

- ก. ข่าวกรองที่มีรายละเอียด
- ข. มีความถูกต้องและทันเวลา
- ค. ใช้ได้ทุกระดับหน่วย
- ง. ถูกทุกข้อ

๓๕๙. ข่าวกรองในการปฏิบัติการจิตวิทยา มุ่งเน้นเป้าหมายทางด้านใด

- ก. สงครามจิตวิทยา
- ข. ทางจิตวิทยาเป็นหลัก
- ค. การปฏิบัติเป็นหลัก
- ง. ทางกิจกรรมจิตวิทยา

๓๖๐. คณะกรรมการปฏิบัติการจิตวิทยา ประกอบด้วยข้าราชการจากส่วนต่างๆ จำนวนเท่าใด

- ก. ๒๒ คน
- ข. ๒๓ คน
- ค. ๒๔ คน
- ง. ๒๕ คน

วิชา อุดมการณ์ความรักชาติ

๓๖๑. คนไทยตั้งแต่สมัยโบราณมีจิตยึดมั่นและพร้อมเสมอที่จะพลีชีวิตและเลือดเนื้อให้แก่สิ่งสำคัญสูงสุด ๔ ชนิด ทั้ง ๔ ชนิดนั้นคือ

- ก. ครอบครัว , คนรัก , ยศตำแหน่ง , เงินทอง
- ข. ชาติ , ยศตำแหน่ง , เงินทอง , พระมหากษัตริย์
- ค. ชาติ , ศาสนา , เงินทอง , พระมหากษัตริย์
- ง. ชาติ , ศาสนา , พระมหากษัตริย์ , ประชาชน

๓๖๒. คนไทยที่สืบสายเลือดไทยมาแต่บรรพกาล มีบ้านเกิดเมืองนอนในประเทศไทย พุคภาษาไทยและมีขนบธรรมเนียมประเพณีเป็นไทยโดยสมบูรณ์ เป็นลักษณะของคนไทยประเภทใด

- ก. ไทยอารยัน
- ข. ไทยแท้
- ค. ไทยโบราณ
- ง. ไทย

๓๖๓. ข้อใดคือลักษณะของความรู้สึกฝังลึกและผูกพันอย่างแน่นแฟ้นของคนไทย

- ก. เบียดเบียน ประทุษร้ายซึ่งกันและกัน
- ข. อุดหนุนและชวนชวายในกิจกรรมของตนเอง
- ค. รักใคร่กัน ประารถดีต่อกันและกัน
- ง. บำรุงรักษาสมบัติของชาติ

๓๖๔. “ชาติไทย” ให้อะไรกับเหล่าคนไทยบ้าง

- ก. ชีวิตและความภาคภูมิใจ
- ข. ชีวิตและเงินทอง
- ค. แผ่นดินและที่ทำกิน
- ง. แผ่นดิน ชีวิตและศาสนา

๓๖๕. เหตุผลในข้อใด บ่งบอกถึงเหตุที่ทุกคนต้องรักชาติที่ถูกต้องที่สุด

- ก. เพราะเรามีส่วนได้เสีย ร่วมทุกข์ร่วมสุขกับชาติหากชาติเจริญเราก็เจริญด้วย
- ข. เพราะเรามีประโยชน์สุขจากการอาศัยอยู่ในแผ่นดิน
- ค. เพราะเราเป็นเจ้าของประเทศชาติแต่เราเพียงผู้เดียว
- ง. เพราะชาติทำให้เรามีชีวิตอยู่ร่ารวยและมีความสุข

๓๖๖. ส่วนประกอบของชาติข้อใดที่ทำให้ประเทศเป็นเอกราช

- ก. ประชาชน
- ข. ศาสนา
- ค. ประเทศ
- ง. สถาบันการเมือง

๓๖๗. ข้อใดแสดงถึงนิยามของ “ประเทศไทย” ได้ชัดเจนและแจ่มชัดที่สุด

- ก. ดินแดนที่ทำมาหากินและถิ่นฐานของคนไทย
- ข. ดินแดนของคนไทยตามที่ปรากฏในแผนที่
- ค. ดินแดนในโซนทวีปเอเชีย
- ง. ดินแดนอันเป็นบ้านเกิดเมืองนอนของชาวไทยตามที่ปรากฏในแผนที่

๓๖๘. ข้อใดแสดงออกถึงความผูกพันทางใจที่คนไทยมีต่อบ้านเกิดเมืองนอนของคนได้ชัดเจนมากที่สุด

- ก. รักและหวงแหนถิ่นฐานบ้านเมืองและป้องกันรักษาประเทศ
- ข. รักและดำเนินธุรกิจกับต่างชาติเพื่อสนับสนุนการค้าของไทย
- ค. ส่งภาษีเยอะ ๆ เพื่อจะได้ใช้เงินงบประมาณประเทศได้
- ง. บำรุงให้บ้านเมืองมีความเจริญก้าวหน้า

๓๖๙. “ถ้าสิ้นชาติ สิ้นแผ่นดินก็สิ้นคิด เรามายอมเสียชีวิตดีกว่าอยู่” บทความดังกล่าวนี้เป็นบท

ประพันธ์ส่งเสริมความรักชาติ ของผู้ใด

- ก. พระบาทสมเด็จพระเจ้าอยู่หัว
- ข. พล.ต.หลวง ชาตินักรบ
- ค. พล.ต.ประยูร ภมรมนรี
- ง. พล.ต.หลวงวิจิตวาทการ

๓๗๐. ข้อใดให้คำจำกัดความของคำว่า “ ศาสนา ” ได้อย่างชัดเจนที่สุด

- ก. เครื่องยึดเหนี่ยวจิตใจของเหล่าประชาชน
- ข. สิ่งที่มีมุ่งเน้นให้กระทำความดี ละเว้นความชั่ว
- ค. คำสั่งสอนในทางที่ดีที่ผู้เป็นศาสดาแสดงสั่งสอนบัญญัติไว้ให้ทำดีละความชั่ว
- ง. ทางแห่งการหลุดพ้นจากความทุกข์ทั้งมวล

๓๗๑. ประชาชนไทยส่วนใหญ่นับถือศาสนาพุทธเป็นศาสนาประจำชาติโดยปรากฏหลักฐานเด่นชัดเมื่อสมัยใด

- ก. สมัยกรุงศรีอยุธยา
- ข. สมัยรัตนโกสินทร์
- ค. สมัยสุโขทัย
- ง. ก่อนสมัยพุทธศักราช

๓๗๒. หัวหน้าของชนชาติไทย คือผู้ใด

- ก. พระมหากษัตริย์
- ข. นายกรัฐมนตรี
- ค. ผู้บัญชาการทหารสูงสุด
- ง. รัฐมนตรีว่าการกระทรวงกลาโหม

๓๗๓. ข้อใดให้คำจำกัดความของ “ พระมหากษัตริย์ ” ได้ชัดเจนและถูกต้องที่สุด

- ก. ผู้ทรงอยู่ในตำแหน่งประมุขและหัวหน้าของชนชาติไทย
- ข. ผู้ทรงในตำแหน่งพระประมุขของชนชาติไทย และทรงมีหน้าที่อันที่จะคุ้มครองอาณาประชาราษฎร์ให้พ้นทุกข์ อยู่ร่วมกันอย่างมีความสุข
- ค. ผู้ทรงอยู่ในฐานะประมุขของชนชาติไทย มีอำนาจและหน้าที่ในการคุ้มครองประชาชนให้อยู่ดีกินดีมีความสุข
- ง. ผู้ทรงในฐานะประมุขของชาติ มีอำนาจจัดการทุกข์สุขของราษฎรทั้งประเทศให้อยู่เย็นเป็นสุข

๓๗๔. “ ข้าพเจ้าจะเชิดชูและรักษาไว้ซึ่งพระบรมเดชานุภาพแห่งพระมหากษัตริย์เจ้า ” บทความดังกล่าวเป็นบทคำกล่าวที่ทหารใช้ในโอกาสใด

- ก. รายงานตัวต่อผู้บังคับบัญชา
- ข. คำสัจย์ปฏิญาณตนต่อธงชัยเฉลิมพล
- ค. ถวายสัตย์ปฏิญาณต่อพระบาทสมเด็จพระเจ้าอยู่หัว
- ง. คำกล่าวในงานสวดดีโดยทั่วไป

๓๗๕. พระบาทสมเด็จพระเจ้าอยู่หัวพระองค์ทรงเป็นอัครศาสนูปถัมภก ถามว่า “ อัครศาสนูปถัมภก ” หมายถึงอะไร

- ก. หัวหน้าของชนชาติไทย
- ข. หัวหน้าของเหล่าศาสนาต่าง ๆ
- ค. หัวหน้าของพสกนิกร
- ง. หัวหน้าบำรุงรักษาพระศาสนาให้เจริญรุ่งเรือง

๓๗๖. “ ลักษณะดีและเด่นของสังคมไทยที่คนไทยทั้งชาติมีส่วนร่วมซึ่งสำแดงความเป็นชาติและทำให้ชาติไทยแตกต่างจากสังคมอื่น” ตามบทความนี้คือคำจำกัดความของสิ่งใด

- ก. ชนชาติไทย
- ข. เอกลักษณะความเป็นไทย
- ค. ความภาคภูมิใจของคนไทย
- ง. มารยาทคนไทย

๓๗๗. สิ่งที่ทำให้คนไทยมีชีวิตที่มีคุณภาพ มีคุณค่า และมีความสุขอยู่ในโลกยุคโลกาภิวัตน์ได้ สิ่งนั้นคืออะไร

- ก. วัฒนธรรมไทย
- ข. ระบบทางเศรษฐกิจที่มั่นคง
- ค. ทูตทางวัฒนธรรม
- ง. ระบบการปกครองระบอบประชาธิปไตย

๓๗๘. สิ่งที่เด่นของคนไทยที่ทำให้คนไทยสามารถรักษาเอกราชอธิปไตยและความเป็นไทยมาได้ โดยตลอดคืออะไร

- ก. สถาบันชาติ ศาสนา พระมหากษัตริย์
- ข. สถาบันพระมหากษัตริย์ ตำรวจและทหาร
- ค. ความสามัคคี เป็นน้ำหนึ่งใจเดียวกันของคนในชาติไทย
- ง. กรอบทางวัฒนธรรมที่สืบต่อกันมาช้านาน

๓๗๙. วัฒนธรรม หมายถึงสิ่งใด

- ก. ลักษณะแสดงความนิยมชมชอบในสังคม
- ข. ลักษณะถึงความเจริญของงาน ความเป็นระเบียบเรียบร้อยและศีลธรรมอันดีของประชาชน
- ค. สิ่งสืบเนื่องมาจากบรรพกาลนับถือสืบทอดกันมา
- ง. ผลงานสร้างสรรค์อันเป็นมรดกตกทอดกันมาในสังคม

๓๘๐. ในยุคสมัยของรัฐบาลใดได้บังคับใช้กฎหมายในการกำหนดวัฒนธรรม (กำหนดด้วยกฎหมาย) และคำสั่งทางราชการ

- ก. จอมพล ป.พิบูลย์สงคราม
- ข. จอมพล ถนอม กิตติขจร
- ค. จอมพล สฤษดิ์ ธนะรัชต์
- ง. จอมพล ประภาส จารุเสถียร

๓๘๑. ข้อใดไม่ถืออยู่ในลักษณะของวัฒนธรรม

- ก. การดำรงชีวิต
- ข. การแต่งกาย
- ค. ความเชื่อทางศาสนา
- ง. การนอนและพักผ่อน

๓๘๒. วัฒนธรรมย่อยทางศาสนา (religious subculture) ข้อใดถูกต้องที่สุด
- ก. คนไทยพุทธ เชื่อกฎแห่งกรรม ทำดีได้ดี ทำชั่วได้ชั่ว
 - ข. คนไทยคริสต์ เชื่อตามไบเบิล คัมภีร์ต่าง ๆ
 - ค. คนไทยพุทธ ทำบุญเขอระหวังขึ้นสวรรค์
 - ง. คนไทยพุทธ ทำบุญโดยไม่สนแก่ฐานะตน
๓๘๓. ข้อใดแสดงถึงวัฒนธรรมย่อยทางอายุ (age subculture) ผิด
- ก. วัยเด็ก – เล่น
 - ข. วัยรุ่น – ทำงาน หากครอบครัว ชอบอยู่ลำพัง
 - ค. วัยหนุ่มสาว – สนุกสนาน ทำงาน หากครอบครัว
 - ง. วัยชรา – ความสงบ สุขุม มีชีวิตเรียบง่าย
๓๘๔. ประเพณีไทยแบ่งออกเป็นกี่ประเภท อะไรบ้าง
- ก. ๒ ประเภท คือประเพณีท้องถิ่น , ประเพณีของสังคม
 - ข. ๒ ประเภท คือรัฐพิธี , ประเพณีท้องถิ่น
 - ค. ๔ ประเภท คือขนบธรรมเนียม , จารีตประเพณี , วิถีชีวิตความเป็นอยู่และแบบธรรมเนียม
 - ง. ๔ ประเภท คือประเพณีเกี่ยวกับครอบครัว, ประเพณีสังคม, ประเพณีท้องถิ่น, รัฐพิธีและราชพิธี

วิชา การปฐมพยาบาลและเวชกรรมป้องกัน

๓๘๕. ข้อใดไม่ใช่วัตถุประสงค์ของการจัดดินแดนเพื่อแบ่งดินแดนออกเป็นพื้นที่ต่าง ๆ
- ก. พื้นที่สำหรับการรบ
 - ข. พื้นที่สนับสนุนการรบ
 - ค. พื้นที่สำหรับสนับสนุนทางการช่วยรบ
 - ง. พื้นที่สำหรับสนับสนุนทางการแพทย์
๓๘๖. เมื่อมีการประกาศสงคราม พื้นที่ต่าง ๆ ของประเทศคู่สงครามจะกลายเป็นเขตใด
- ก. เขตการรบ
 - ข. เขตสงคราม
 - ค. เขตอันตราย
 - ง. เขตสงบ
๓๘๗. เมื่อมีการประกาศสงครามพื้นที่ต่าง ๆ ของประเทศคู่สงครามมีพื้นที่ใดบ้าง
- ก. ทางบก ทางทะเล ทางอากาศ
 - ข. ทางดิน ทางน้ำ ทางฟ้า
 - ค. ทางดิน ทางทะเล ทางฟ้า
 - ง. ทางบก ทางน้ำ ทางอากาศ
๓๘๘. เขตสงครามแบ่งออกเป็นส่วนใหญ่ ๆ 2 ส่วน ตามลักษณะการยุทธ์ ได้แก่อะไรบ้าง
- ก. เขตยุทธบริเวณ และเขตภายนอก
 - ข. เขตยุทธบริเวณ และเขตภายใน
 - ค. เขตหน้าและเขตยุทธบริเวณ
 - ง. เขตหน้าและเขตภายใน

๓๕๗. ผู้บัญชาการยุทธบริเวณเป็นผู้กำหนดเขตใดบ้าง

- ก. เส้นหน้าของเขตหน้า
- ข. เส้นหน้าของเขตหลัง
- ค. เส้นหลังของเขตหน้า
- ง. เส้นหลังของเขตหลัง

๓๕๘. ข้อใดไม่ใช่ส่วนประกอบของเขตหลัง

- ก. เส้นทางคมนาคม
- ข. สถานที่ตั้งทางการส่งกำลังบำรุง
- ค. การส่งกลับทางการแพทย์รวมทั้งหน่วยในเขตหลัง
- ง. สถานที่ประกอบอาหาร

๓๕๙. เขตภายในเป็นพื้นที่ส่วนหนึ่งของเขตสงครามแต่ไม่ได้กำหนดเป็นเขตยุทธบริเวณ จึงเป็นพื้นที่ที่เหมาะสมสำหรับใช้ทำอะไร

- ก. แสวงหาสิ่งอำนวยความสะดวกต่าง ๆ
- ข. แสวงหาทรัพยากรบุคคลและวัสดุ
- ค. แสวงหาที่พักอาศัย
- ง. แสวงหาอาหารการกิน น้ำ

๔๐๐. เขตภายใน ให้การสนับสนุนเขตยุทธบริเวณตามจำนวนที่ต้องการตามเวลาที่กำหนด ให้อยู่ในสภาพที่ปลอดภัยและใช้การได้มากและดีที่สุด ณ ที่ใด

- ก. ณ ตำบลที่เหมาะสม
- ข. ณ สถานที่ที่เหมาะสม
- ค. ณ แหล่งที่เหมาะสม
- ง. ณ เขตที่เหมาะสม

๔๐๑. การเสนาธิการสนาม คืออะไร

- ก. การบริการทางการรบ + ยุทธศาสตร์
- ข. การบริการทางการเมือง + ยุทธวิธี
- ค. การบริการทางการแพทย์ + ยุทธวิธี
- ง. การบริการทางเศรษฐกิจ + ยุทธศาสตร์

๔๐๒. ภารกิจของเหล่าทหารแพทย์ คืออะไร

- ก. การอนุรักษ์ (สงวน) กำลังรบ
- ข. การพิทักษ์รักษากำลังรบ
- ค. การอนุรักษ์ (สงวน) กำลังทหาร
- ง. การพิทักษ์รักษากำลังทหาร

๔๐๓. การปฏิบัติหน้าที่ในด้านการป้องกันและการดูแลรักษาพยาบาลให้กับผู้ป่วยหรือผู้บาดเจ็บ เป็นหน้าที่ของทหารเหล่าใด

- ก. เหล่าทหารการบังคับบัญชา
- ข. เหล่าทหารเวชกรรมป้องกัน
- ค. เหล่าทหารบก
- ง. เหล่าทหารแพทย์

๔๐๔. ปัจจุบันนี้แม้จะมีอาวุธที่มีประสิทธิภาพสูง ก็ยังต้องอาศัยคนเป็นผู้กำหนดข้อใดไม่ใช่

- ก. หลักการ
- ข. กฎเกณฑ์ควบคุม
- ค. การทำงานของเครื่องจักรกล
- ง. กดปุ่ม ลั่นไก

๔๐๕. เหล่าทหารแพทย์จำเป็นต้องปฏิบัติพันธกิจอย่างมีประสิทธิภาพข้อใดไม่ใช่

- ก. การเวชกรรมป้องกัน + การรักษาพยาบาล
- ข. การประชาสัมพันธ์ + การส่งกลับทางบก ทางน้ำ ทางอากาศ
- ค. การส่งกลับทางการแพทย์ + การส่งกำลังสายแพทย์
- ง. การบริการทางการแพทย์อื่น ๆ

๔๐๖. ทรัพยากรที่สำคัญที่สุดของกองทัพ คืออะไร

- ก. บุคคลทั่วไป
- ข. ตำรวจ
- ค. กำลังพล (ทหาร)
- ง. วิทยุ

๔๐๗. ในสนามรบทหารจะได้รับการรักษาพยาบาลตั้งแต่จุดใดถึงจุดใด

- ก. จุดที่ได้รับบาดเจ็บในแนวหน้าแล้วทำการรักษาพยาบาลบริเวณนั้น
- ข. จุดที่ได้รับบาดเจ็บในแนวหน้า แล้วส่งกลับโดย ฮ. มายังหน่วยแพทย์ที่ กทม.
- ค. จุดที่ได้รับบาดเจ็บในแนวหน้า แล้วส่งกลับคืนโดยรถยนต์ มายังหน่วยแพทย์ใกล้เคียง
- ง. จุดที่ได้รับบาดเจ็บในแนวหน้า แล้วส่งกลับมายังหน่วยแพทย์ที่อยู่ข้างหลัง

๔๐๘. ในทุกขั้นตอน ณ ที่ตั้งของหน่วยแพทย์ เพื่อจัดลำดับความเร่งด่วนให้ผู้ป่วยได้ส่งไปรับการรักษาพยาบาล จะต้องทำการสิ่งใดก่อน

- ก. คัดแยกผู้ป่วยเจ็บ
- ข. จำกัดผู้ป่วยเจ็บ
- ค. จัดระเบียบผู้ป่วยเจ็บ
- ง. ตกแต่งผู้บาดเจ็บ

๔๐๙. ผู้ป่วยหรือบาดเจ็บเล็กน้อย ต้องให้การักษาพยาบาลให้หายภายในระยะเวลาที่สั้นที่สุดแล้วทำอย่างไรต่อ

- ก. ส่งกลับหน่วยต้นสังกัด
- ข. รีบส่งคืนให้ปฏิบัติหน้าที่ในสนาม
- ค. ส่งกลับไปพักผ่อนที่บ้าน
- ง. เปลี่ยนสายงานใหม่

๔๑๐. หน่วยแพทย์ที่อยู่ข้างหน้ามากเท่าใด จะมีขีดความสามารถทางการแพทย์จำกัด แต่จะมีสิ่งใดสูง

- ก. ความหุดพัน
- ข. ความสุขสบาย
- ค. ความคล่องตัวสูง
- ง. ความรวดเร็ว

๔๑๑. การส่งกลับทางการแพทย์ คือวิธีการเคลื่อนย้ายผู้ป่วยจากจุดที่บาดเจ็บ (สนามรบ) มายังหน่วยแพทย์ที่อยู่ใด

- ก. ข้างหลัง
- ข. ข้างหน้า
- ค. ด้านข้าง
- ง. ด้านนอก

๔๑๒. ข้อใดไม่ใช่วิธีการส่งกลับทางพื้นดิน

- ก. การชี้ทางให้ผู้ป่วยเจ็บ (ที่เดินได้) เดินไป
- ข. การอุ้มพยุง การแบก การใช้เปลหาม
- ค. การลำเลียงด้วยรถยนต์พยาบาล
- ง. การเคลื่อนย้ายโดยใช้คนลาก

๔๑๓. การส่งกลับผู้ป่วยเจ็บในสนามบางพื้นที่และบางสถานการณ์ เลวร้าย ไม่เหมาะสม อาจจำเป็นต้องใช้อะไรตัดแปลงในการเคลื่อนย้ายผู้ป่วยเจ็บ

- ก. สัตว์ต่าง ๆ และรถสายพานลำเลียงพล
- ข. ม้า และ รถถัง
- ค. จัดหาลูกหาบจากท้องถิ่นนั้นมาช่วย
- ง. รถยนต์บรรทุกขนาดใหญ่

๔๑๔. การส่งกลับด้วยเปล ๑ พกเปล จะมีพลเปลกี่คน

- ก. ๘ คน
- ข. ๕ คน
- ค. ๔ คน
- ง. ๖ คน

๔๑๕. ข้อใดไม่ใช่สาเหตุที่มาจากอุปสรรคต่าง ๆ อันมีอาจหลีกเลี่ยงและก่อให้เกิดความล่าช้าในการส่งกลับ

- ก. การกระทำของข้าศึก
- ข. ระบบการขนส่งที่สะดวกทันเหตุการณ์
- ค. ระบบการติดต่อสื่อสารที่ขาดประสิทธิภาพ
- ง. สภาพภูมิประเทศ ถนน และลมฟ้าอากาศ

๔๑๖. หน่วยแพทย์ที่อยู่ข้างหน้า จะได้รับสิ่งอุปกรณ์สายแพทย์ประเภท สป.เส้นเปลือง อะไรจากหน่วยแพทย์ที่สนับสนุนอยู่ข้างหลัง โดยการร้องขออย่างไม่เป็นทางการขณะปฏิบัติการอยู่ในสถานการณ์รบ

- ก. วิทยุติดต่อสื่อสาร
- ข. เครื่องใช้สอยส่วนตัว
- ค. ยารักษาโรค
- ง. ผ้าพันแผล ผ้าแต่งแผล เลือด ยา

๔๑๗. สิ่งอุปกรณ์ถาวรสายแพทย์ มีหน่วยแพทย์ที่อยู่ข้างหน้าต้องจัดเตรียมมาทดแทน ให้ขึ้นต่อขึ้น ติดตัวอยู่กับผู้ป่วยเจ็บ ข้อใดไม่ใช่

- ก. เปล ผ้าห่ม
- ข. เครื่องแต่งกาย
- ค. สายรัดห้ามเลือด
- ง. เสื้อกั๊กโรมัส

๔๑๘. ในสถานการณ์ที่ยังไม่มีการรบ ข้อใดไม่ใช่หน้าที่ของการบริการทางการแพทย์ระดับหน่วย

- ก. เปิดที่ตรวจโรค
- ข. ให้ความรู้เรื่องการปฐมพยาบาล สุขศาสตร์ส่วนบุคคล
- ค. เปิดห้องผ่าตัด
- ง. กำกับดูแลในเรื่องเวชกรรมป้องกัน

๔๑๙. บัตรบันทึกการเจ็บป่วยในสนาม ต้องติดตัวไปกับผู้ป่วยเจ็บจนถึงที่ส่งกลับแห่งสุดท้าย จะได้รับการตรวจสอบและเซ็นชื่อกำกับไว้ด้วยเพื่ออะไร

- ก. ความรวดเร็วในการขนส่ง
- ข. ความถูกต้องในการรักษาพยาบาล
- ค. รายละเอียดต่าง ๆ เกี่ยวกับประวัติ
- ง. ความคล่องตัวในการเคลื่อนย้าย

๔๒๐. ในสถานการณ์รบจะร้องขอ สป.สาย พ. เพิ่มเติมและการแจกจ่ายส่งมาให้จะกระทำโดยทางสายการส่งกลับ ใช้ฝากมากับใคร

- ก. เฮลิคอปเตอร์พยาบาล
- ข. รถยนต์ส่งกำลังบำรุง
- ค. รถสายพานลำเลียงพล
- ง. รถยนต์พยาบาล

๔๒๑. รถยนต์พยาบาลในแนวหน้าแต่ละคันจะทำการลำเลียงผู้ป่วยเจ็บ จะมีหน้าที่ประจำ 2 นาย คือ

- ก. พลขับ และ ช่างเครื่อง
- ข. พลขับ และ พลทหาร
- ค. พลขับ และ นายสิบพยาบาล
- ง. พลขับ และ แพทย์

๔๒๒. รถยนต์พยาบาลจะทำการลำเลียงผู้ป่วยเจ็บจากแนวหน้า มายังที่พยาบาลข้างหลัง ซึ่งกระทำได้รวดเร็วและจำนวนมากมาย ต้องคำนึงถึงความปลอดภัยต่าง ๆ จากสถานการณ์รบ ข้อใดไม่ใช่

- ก. ลักษณะภูมิประเทศ
- ข. สภาพลมฟ้าอากาศในขณะนั้น
- ค. ทหารทุกคนให้ความปลอดภัยจากสถานการณ์รบ
- ง. ความสุขสบายในสนามรบ

๔๒๓. ข้อใดไม่ใช่ข้อพิจารณาในการเลือกที่ตั้งพยาบาลกองพัน

- ก. ความปลอดภัย
- ข. ใกล้เคียงถนนและสะพาน
- ค. การกำบังและซ่อนพราง
- ง. พื้นที่ที่คาดว่าจะมีผู้ป่วยเจ็บหนาแน่น

๔๒๔. เปลเป็นเครื่องมือที่ใช้ส่งกลับผู้ป่วยเจ็บในสนามได้ทุกลักษณะภูมิประเทศ

แต่มีขีดจำกัดในเรื่องใด

- ก. ระยะทาง
- ข. ความเร็ว
- ค. เวลา
- ง. น้ำหนัก

๔๒๕. การบริการทางการแพทย์ทางยุทธวิธี ได้แก่ข้อใด

- ก. การบริการทางการแพทย์ระดับหน่วย และระดับกองพล
- ข. การบริการทางการแพทย์ระดับหน่วย ระดับกองพล และกองทัพ
- ค. การบริการทางการแพทย์ระดับกองพล และกองทัพ
- ง. การบริการทางการแพทย์ระดับหน่วย และกองทัพ

๔๒๖. การบริการทางการแพทย์เริ่มปฏิบัติขึ้นก่อนคือระดับใด

- ก. ระดับกองพล
- ข. ระดับกองทัพ
- ค. ระดับหน่วย
- ง. ระดับเขตหลังและเขตภายใน

๔๓๕. ผู้บังคับหน่วยแพทย์ยังสามารถได้ทราบสถานการณ์ทางยุทธวิธีมากเท่าใด ก็ยิ่งนำสิ่งใดได้เหมาะสมและประสบความสำเร็จมากยิ่งขึ้น

- ก. วางนโยบายทุก ๆ ด้าน
- ข. วางแผนสนับสนุนทางการแพทย์
- ค. ให้นำนโยบายแก่ผู้ใต้บังคับบัญชา
- ง. วางแผนการรบ

๔๓๖. การบริการทางการแพทย์ในสนาม หมายถึงอะไร

- ก. การนำเอาทรัพยากรทางการแพทย์ผสมผสานกับการปฏิบัติการทางยุทธวิธี
- ข. การนำเอาเจ้าหน้าที่ทางการแพทย์ผสมผสานกับความสะดวกสบายในสนาม
- ค. การนำเอาเครื่องมือทางการแพทย์ผสมผสานยุทธโศปกรณ์ทางยุทธวิธี
- ง. การนำเอาเจ้าหน้าที่ทางการแพทย์ผสมผสานกับกำลังพลในสนาม

๔๓๗. ประสิทธิภาพของการบริการทางการแพทย์ในสนาม จัดได้จากสิ่งใด

- ก. จำนวนเหรียญกล้าหาญที่ได้รับ
- ข. คำชมเชยต่าง ๆ จากผู้บังคับบัญชา
- ค. การได้รับชัยชนะจากการสู้รบกับข้าศึกในสนาม
- ง. จำนวนผู้ป่วยเจ็บที่สามารถช่วยชีวิตหรือป้องกันความพิการได้

๔๓๘. ในการดำรงชีวิตของมนุษย์มีกลไกในการหายใจอย่างไร

- ก. นำออกซิเจนไปยังหัวใจแล้วส่งไปทั่วร่างกาย
- ข. นำออกซิเจนเข้าไปยังปอดแล้วส่งไปทั่วร่างกายโดยผ่านไปตามเส้นโลหิต
- ค. นำออกซิเจนจากเส้นโลหิตไปยังหัวใจ
- ง. นำออกซิเจนจากหัวใจ แล้วส่งไปเฉพาะส่วนที่สำคัญของร่างกาย

๔๓๙. เซลล์ประสาทที่มีความสำคัญต่อชีวิตซึ่งอยู่ในสมองอาจตายได้หลังขาดออกซิเจนเพียงกี่นาทีเท่านั้น

- ก. ๑ นาที
- ข. ๒ นาที
- ค. ๓ นาที
- ง. ๔ นาที

๔๔๐. ข้อใดไม่ใช่อาการฉุกเฉินที่สามารถทำให้ผู้บาดเจ็บอยู่ในขั้นอันตรายได้

- ก. มีบาดแผลที่เกิดการอักเสบ เจ็บปวด บวมแดง
- ข. การขาดระยะของการหายใจ หรืออัตราการเต้นของหัวใจ
- ค. การสูญเสียโลหิตอย่างหนัก
- ง. ภาวะการหมดสติ

๔๔๑. กลวิธีสำหรับการหายใจโดยใช้การผายปอดกระทำเพื่ออะไร
- ก. อากาศผ่านไปสู่อวัยวะของผู้ป่วยเจ็บที่พอหายใจได้
 - ข. อากาศผ่านไปสู่อวัยวะของผู้ป่วยเจ็บที่พอหายใจได้
 - ค. อากาศผ่านไปสู่อวัยวะของผู้ป่วยเจ็บที่กำลังขาดระยะการหายใจ
 - ง. อากาศผ่านไปสู่อวัยวะของผู้ป่วยเจ็บที่กำลังที่ขาดระบบการหายใจ
๔๔๒. กลวิธีสำหรับการหมุนเวียนของโลหิต โดยใช้การบีบหัวใจ กระทำเพื่ออะไร
- ก. ใช้แรงกระแทกลงบนหน้าอก ทำให้หัวใจสูบฉีดโลหิต
 - ข. ใช้แรงกดลงบนทรวงอกด้านซ้ายทำให้หัวใจสูบฉีดโลหิตได้ดี
 - ค. ใช้ฝ่ามือขนาดลงบนทรวงอกด้านซ้าย ทำให้โลหิตหมุนเวียนดี
 - ง. ใช้หลังมือกระแทกลงบนหน้าอก ทำให้โลหิตหมุนเวียนดี
๔๔๓. ในการหายใจมีสิ่งใดที่จำเป็นที่สุดในการดำรงชีวิต
- ก. ก๊าซคาร์บอนไดออกไซด์
 - ข. ก๊าซไนโตรเจน
 - ค. ออกซิเจน
 - ง. ก๊าซโอโซน
๔๔๔. ข้อใดไม่ได้จัดอยู่ในระยะของการหายใจ
- ก. การหายใจเร็ว
 - ข. การหายใจช้า
 - ค. การหายใจออก
 - ง. จังหวะหยุด
๔๔๕. วิธีการช่วยชีวิตผู้ป่วยเจ็บ ให้บรรลุผลควรอยู่ในท่านอนอย่างไร
- ก. นอนคว่ำ
 - ข. นอนหงายราบ
 - ค. นอนตามสบาย
 - ง. นอนตะแคง
๔๔๖. การตรวจสอบอัตราการเต้นของหัวใจซึ่งพบบริเวณใดที่สามารถยืนยันผลที่เชื่อถือได้
- ก. บริเวณข้อมือ
 - ข. บริเวณขมับ
 - ค. บริเวณข้อพับ
 - ง. บริเวณลำคอด้านข้าง
๔๔๗. ข้อใดไม่ใช่วิธีการห้ามเลือดให้กับผู้บาดเจ็บที่มีเลือดออกมาก
- ก. กดบริเวณทรวงอก
 - ข. กดบริเวณบาดแผล
 - ค. กดบริเวณเส้นเลือดแดง
 - ง. การขันชะเนาะ
๔๔๘. เมื่อมีเลือดออกภายนอกให้ใช้ผ้าสะอาดปิดบริเวณบาดแผล แต่ถ้าเลือดยังไม่หยุดไหล ควรปฏิบัติอย่างไร
- ก. ยกส่วนบาดแผลให้สูงขึ้น รีบไปโรงพยาบาล
 - ข. เอาผ้าพันแผลเดิมออกแล้วพันใหม่
 - ค. ให้ใช้ผ้าพันแผลพันทับลงไป
 - ง. ใช้สมุนไพรรัดบาดแผลให้เลือดหยุดไหล

๔๔๘. ในรายที่สงสัยว่ากระดูกคอหรือกระดูกสันหลังหัก ไม่ควรให้ผู้บาดเจ็บปฏิบัติสิ่งใดเป็นอันตรายจะทำให้เกิดอัมพาตได้

- ก. นอนราบ
- ข. หยุดนั่ง
- ค. ห้ามเคลื่อนย้าย
- ง. อยู่นิ่ง ๆ

๔๕๐. วิธีการชันชะเนาะให้ได้ผล ควรปฏิบัติอย่างไร

- ก. ควรคลายชันชะเนาะออกเมื่อมีอาการชา
- ข. ควรใช้เชือก สายไฟ ลวด หรือด้ายเล็ก ๆ ทำเป็นชันชะเนาะ
- ค. รัดพื้นที่ที่อยู่ระหว่างบาดแผลกับหัวใจ ห่างบาดแผลประมาณ ๒ นิ้ว
- ง. ไม่ควรใช้ผ้านุ่ม ๆ รองโดยรอบก่อนการชันชะเนาะ

๔๕๑. ข้อใดไม่ใช่การลำเลียงด้วยมือ

- ก. จัดหาเปลไม่ได้
- ข. ภูมิประเทศไม่อำนวยให้ลำเลียง
- ค. ชุคเคลื่อนย้ายไม่สามารถออกปฏิบัติงานได้ เนื่องจากการปฏิบัติการของฝ่ายเข้าศึก
- ง. ลำเลียงผู้ป่วยเจ็บไปได้ในระยะไกล ๆ

๔๕๒. ข้อใดไม่ใช่การลำเลียงผู้ป่วยเจ็บด้วยผ้านุ่ม

- ก. อุ้มด้วยการใช้เครื่องอำนวยความสะดวก
- ข. อุ้มเดี่ยว
- ค. อุ้มคู่
- ง. อุ้มมากกว่า ๒ คน ขึ้นไป

๔๕๓. วิธีการอุ้มแบบใดที่เหมาะสมกับคนที่หมดสติและง่ายที่สุดสำหรับการอุ้มเพียงคนเดียว

- ก. อุ้มพยุง
- ข. อุ้มแบก
- ค. อุ้มลากด้วยเข็มขัดปืนพก
- ง. อุ้มทาบหลัง

๔๕๔. ข้อใดไม่ใช่ประโยชน์ของการลำเลียงผู้ป่วยเจ็บด้วยท่าอุ้มคู่

- ก. นำผู้ป่วยเจ็บไปได้ในระยะไกล ๆ
- ข. ได้รับความกระทบกระเทือนน้อยกว่าการอุ้มเดี่ยว
- ค. เหมาะสำหรับผู้ป่วยเจ็บที่หมดสติ
- ง. มีความปลอดภัยน้อยกว่าการอุ้มเดี่ยว

๔๕๕. การลำเลียงผู้ป่วยเจ็บด้วยท่าอุ้มคู่และการใช้เปลสนาม มีความจำเป็นหรือไม่ต้องมีหัวหน้าหรือผู้บอก ยก ลูก นับ แบก-เปล

- ก. จำเป็นจะได้เป็นแนวทางเดียวกัน
- ข. ไม่จำเป็นต้องมีหัวหน้า
- ค. ใครเป็นหัวหน้าหรือผู้บอกก็ได้
- ง. ไม่มีการบอกเกี่ยวกับการอุ้มคู่หรือการใช้เปลสนาม

๔๕๖. ข้อใดไม่ใช่ความมุ่งหมายของการจัดแบ่งพวกเปล
- ก. เพื่อให้พวกเปลทราบตำแหน่ง
 - ข. เพื่อให้รู้หน้าที่ของตนเอง
 - ค. เพื่อให้มีความสุขสบายแก่ผู้ป่วยเจ็บ
 - ง. เพื่อให้พวกเปลมีระเบียบเรียบร้อย มีวินัย รวดเร็ว ถูกต้อง
๔๕๗. การห้ามผู้ป่วยเจ็บที่นอนอยู่บนเปลเมื่อออกเดินเอาทางใดไปก่อน
- ก. ศีรษะ
 - ข. เท้า
 - ค. ลำตัวข้างซ้าย
 - ง. ลำตัวข้างขวา
๔๕๘. การห้ามผู้ป่วยเจ็บบนเปลขึ้นภูเขาหรือขึ้นบันไดต้องเอาส่วนใดขึ้นไปก่อน
- ก. เท้า
 - ข. ลำตัวข้างซ้าย
 - ค. ลำตัวข้างขวา
 - ง. ศีรษะ
๔๕๙. การยกบริเวณที่มีบาดแผลให้สูงขึ้นสูงกว่าระดับหัวใจ เพื่ออะไร
- ก. ช่วยเพิ่มความดันในเส้นเลือด
 - ข. ช่วยให้ความรุนแรงของบาดแผลดีขึ้น
 - ค. ช่วยลดความดันในเส้นเลือดและทำให้เลือดออกน้อยลง
 - ง. ช่วยให้การอักเสบ บวมแดง ลดน้อยลง
๔๖๐. บริเวณที่ชันชะเนาะต้องเปิดไว้เพื่อให้เจ้าหน้าที่ของโรงพยาบาลเห็นและให้ความระมัดระวัง ข้อใดไม่ใช่วิธีการ
- ก. คิดป้ายให้เห็นชัดเจนบริเวณที่ชันชะเนาะ
 - ข. เขียนที่ผ้าแล้วโยงไว้บนศีรษะ
 - ค. บอกเวลาที่ทำการชันชะเนาะ
 - ง. ใช้หมึกเขียนที่หน้าผากผู้ป่วยเจ็บ
๔๖๑. กรมแพทย์ที่ทหารบกเป็นผู้บังคับบัญชาสูงสุดในสายวิชาการแพทย์ของกองทัพบก ข้อใดไม่ใช่หน้าที่รับผิดชอบ
- ก. จัดให้มีการบริการทางการแพทย์ ในยามปกติ
 - ข. จัดให้มีการบริการทางการแพทย์ ในยามสงคราม
 - ค. ให้ปฏิบัติหน้าที่ทางการแพทย์ ได้อย่างมีประสิทธิภาพ
 - ง. ปฏิบัติการรบเคียงคู่กับทหารรบเพื่อปราบปรามข้าศึก
๔๖๒. พันธกิจของเหล่าทหารแพทย์มีความยากลำบากกว่างานอื่น ๆ แม้จะอยู่ในสถานการณ์ที่ดีที่สุดคืออะไร
- ก. การส่งกลับผู้ป่วยเจ็บ
 - ข. การรักษาพยาบาล
 - ค. การส่งเสบียงอาหาร
 - ง. การสนับสนุนอุปกรณ์สายแพทย์

๔๖๓. กระสุนและวัตถุระเบิดที่ติดตัวมากับผู้ป่วยเจ็บ จะถูกเก็บไว้ที่ใด
- ก. ที่พยาบาลกองพล
ข. ที่พยาบาลกองพัน
ค. ที่พยาบาลกองทัพ
ง. โรงพยาบาลในเขตหลัง
๔๖๔. ข้อใดไม่ใช่ที่ตั้งทางการแพทย์ในสนามรบ
- ก. ให้ใกล้เข้าไปข้างหน้าเท่าที่จะทำได้
ข. ไกลออกไปข้างหลัง
ค. ตั้งอยู่บริเวณที่มีการสู้รบกับข้าศึก
ง. ไม่คิดขวางต่อการปฏิบัติการรบ

วิชา การบรรเทาสาธารณภัย

๔๖๕. สาธารณภัย หมายถึง
- ก. ภัยที่เกิดจากธรรมชาติ
ข. ภัยที่เกิดจากการกระทำของมนุษย์
ค. ภัยที่เกิดจากรถเมล์สาธารณะ
ง. ภัยหรือเหตุการณ์ที่เกิดขึ้นเองโดยธรรมชาติหรือการกระทำของมนุษย์
๔๖๖. ภัยที่เกิดขึ้นจากสงคราม ถือเป็นสาธารณภัยหรือไม่เพราะเหตุใด
- ก. เป็น เพราะเป็นภัยที่เกิดขึ้นจากการกระทำของมนุษย์
ข. เป็น เพราะเป็นภัยที่ทำให้เกิดความเสียหายแก่ทรัพย์สินและชีวิต
ค. ไม่เป็น เพราะเป็นสงคราม
ง. ข้อ ก. และ ข. ถูก
๔๖๗. ภัยที่เกิดจากความไม่สงบภายใน ถือเป็นสาธารณภัยหรือไม่เพราะเหตุใด
- ก. ไม่เป็น เพราะเกิดจากความไม่สงบภายใน
ข. เป็น เพราะกระทบกระเทือนต่อความสงบสุขของคนในชาติ
ค. ไม่เป็น เพราะไม่ใช่ภัยธรรมชาติ
ง. ไม่มีข้อใดถูก
๔๖๘. ภัยที่เกิดจากการโจมตีภายนอก ถือเป็นสาธารณภัยหรือไม่ เพราะเหตุใด
- ก. ไม่เป็น เพราะเป็นสงครามภายนอกประเทศ
ข. เป็น เพราะกระทบกระเทือนต่อความสงบสุขของคนในชาติ
ค. ไม่เป็น เพราะไม่ใช่ภัยธรรมชาติ
ง. ไม่มีข้อใดถูก
๔๖๙. อัคคีภัย คือภัยที่เกิดจากอะไร
- ก. น้ำ
ข. ไฟ
ค. ลม
ง. ถูกทุกข้อ

๔๗๐. อุทกภัย คือภัยที่เกิดจากอะไร
ก. น้ำ
ข. ไฟ
ค. ลม
ง. ถูกทุกข้อ
๔๗๑. วาตภัย คือภัยที่เกิดจากอะไร
ก. น้ำ
ข. ไฟ
ค. ลม
ง. ถูกทุกข้อ
๔๗๒. ไฟป่า ถือเป็นภัยชนิดใด
ก. อัคคีภัย
ข. วาตภัย
ค. อุทกภัย
ง. ไม่มีข้อใดถูก
๔๗๓. ผลกระทบทางตรง ของสาธารณภัยที่มีต่อประชาชนคือ
ก. เสียชีวิตและทรัพย์สิน
ข. เสียญาติ พี่น้อง
ค. สภาพเศรษฐกิจตกต่ำ
ง. ถูกทุกข้อ
๔๗๔. ผลกระทบทางอ้อม ของสาธารณภัยที่มีต่อประชาชนคือ
ก. เสียชีวิตและทรัพย์สิน
ข. เสียญาติ พี่น้อง
ค. สภาพเศรษฐกิจตกต่ำ
ง. ถูกทุกข้อ
๔๗๕. ส่วนมากคนไทย เมื่อพูดถึงสาธารณภัย จะนึกถึงภัยอะไรมากที่สุด
ก. อัคคีภัย
ข. วาตภัย
ค. อุทกภัย
ง. ถูกทุกข้อ
๔๗๖. ลักษณะการบรรเทาสาธารณภัยระยะแรก แบ่งการปฏิบัติออกเป็นกี่ลักษณะ
ก. ๑
ข. ๒
ค. ๓
ง. ๔
๔๗๗. งานบรรเทาสาธารณภัย ในลักษณะใดคือช่วยให้ปลอดภัยให้พ้นภัย
ก. สงเคราะห์
ข. สงสาร
ค. ช่วยเหลือ
ง. ช่วยดู
๔๗๘. งานบรรเทาสาธารณภัย ในลักษณะใดคือช่วยให้ผู้ประสบภัยฟื้นฟูกลับสู่สภาพเดิมเหมือนก่อนเกิดสาธารณภัย
ก. สงเคราะห์
ข. สงสาร
ค. ช่วยเหลือ
ง. ช่วยดู
๔๗๙. ด้านการป้องกัน หมายถึงอะไร
ก. การวางแผนเพื่อไม่ให้สาธารณภัยเกิดขึ้น
ข. การช่วยเหลือ
ค. การสงเคราะห์
ง. ถูกทุกข้อ

๔๕๐. ศูนย์ฝึกอบรม ของสำนักงานตำรวจแห่งชาติ ในส่วนภูมิภาค มีกี่แห่ง

ก. ๑

ข. ๒

ค. ๓

ง. ๔

๔๕๑. ศูนย์ฝึกอบรม มีหน้าที่หน้าที่หลักกี่ประการ

ก. ๑

ข. ๒

ค. ๓

ง. ๔

๔๕๒. ให้การอบรมแก่เจ้าหน้าที่เทศบาล สุขาภิบาล เจ้าหน้าที่ส่วนจังหวัดและหน่วยงานต่าง ๆ เป็นหน้าที่หลักของ “ศูนย์ฝึกอบรม” หรือไม่ เพราะอะไร

ก. ไม่ เพราะมีหน่วยงานอื่นมารับหน้าที่อบรมแทน

ข. ไม่ เพราะอยู่นอกเหนือหน้าที่หลัก

ค. เป็น เพราะอยู่ในหน้าที่หลัก และเป็นความรับผิดชอบหลัก

ง. ข้อ ก. และ ข. ถูก

๔๕๓. การดำเนินงานเกี่ยวกับสาธารณภัย โดยกระบวนการทั้งหมดของสิ่งที่ต้องทำ แบ่งออกเป็นกี่ส่วน

ก. ๑ ส่วน

ข. ๒ ส่วน

ค. ๓ ส่วน

ง. ๔ ส่วน

๔๕๔. ส่วนที่ ๒ ของการดำเนินงานเกี่ยวกับสาธารณภัย คืออะไร

ก. การระวังป้องกันและการช่วยเหลือ

ข. การป้องกัน

ค. การสงเคราะห์

ง. ไม่มีข้อใดถูก

๔๕๕. ขั้นตอนของการดำเนินงานเกี่ยวกับสาธารณภัย ขั้นตอนใดหากมิได้พิจารณาอย่างละเอียดแล้ว ถือว่าเป็นงานเดียวกัน

ก. ขั้นแรกกับขั้นที่สอง

ข. ขั้นสองกับขั้นสุดท้าย

ค. ขั้นแรกกับขั้นสุดท้าย

ง. ไม่มีข้อใดถูก

๔๕๖. ในการช่วยกันป้องกันสาธารณภัย หน้าที่หลักเป็นของใคร

ก. รัฐบาล

ข. เอกชน

ค. นักศึกษา

ง. ไม่มีข้อใดถูก

.....